

# Использование географических источников информации для решения учебных, практико-ориентированных задач при подготовке к ОГЭ.



Супруненко С.Ю.  
тьютор,  
учитель географии  
МБОУ «Гимназия»  
Каневской район

# ЗАДАНИЕ 30

- **Повышенный уровень**
- **1 балл**
- **Запись ответов**

<b>Р</b>	<b>о</b>	<b>с</b>	<b>с</b>	<b>и</b>	<b>я</b>
----------	----------	----------	----------	----------	----------

# ЗАДАНИЕ 30

ОПРЕДЕЛИТЕ **РЕГИОН** РОССИИ ПО ЕГО  
КРАТКОМУ ОПИСАНИЮ.

*край*

*республика*

*область*

*автономная  
область*

*город*

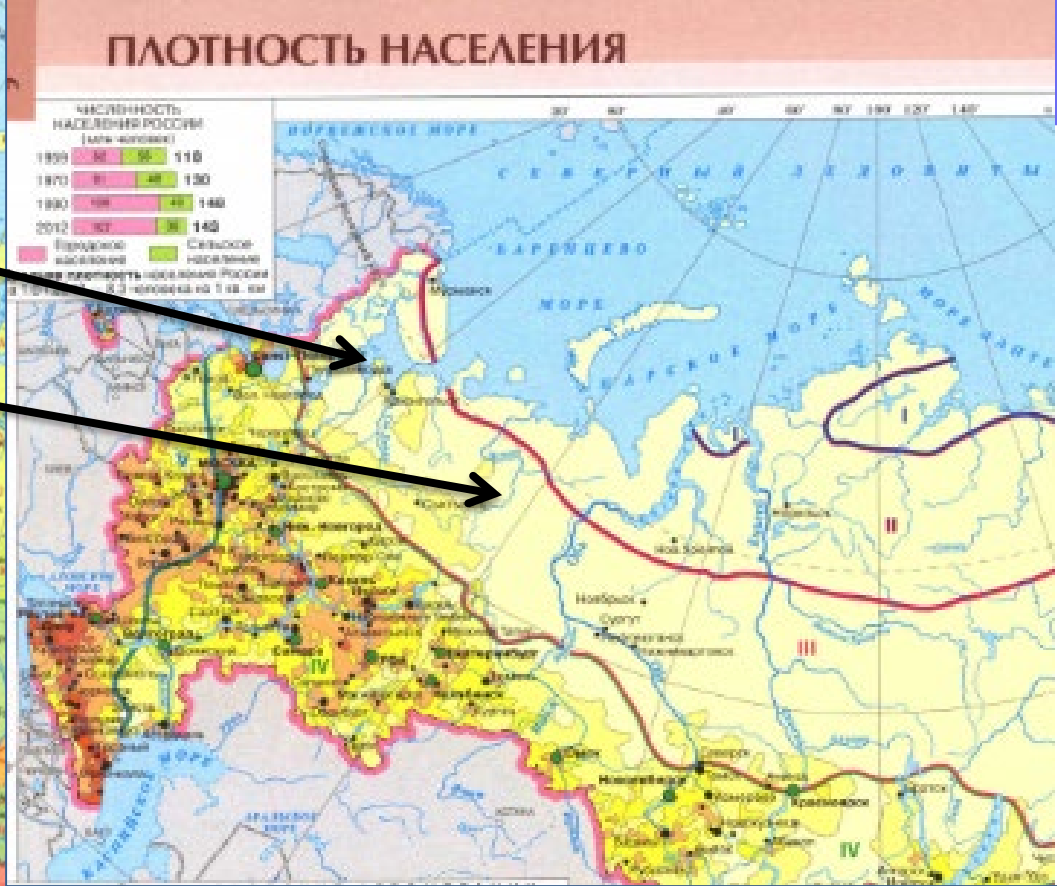
*автономный  
округ*

**ИСПОЛЬЗОВАТЬ КАРТУ** «ФЕДЕРАТИВНОЕ  
УСТРОЙСТВО» (9 и/или 8 класс)

# №1.

*Определите регион России по его краткому описанию.*

- Эта **республика** расположена в *европейской части* страны. Она слабо заселена: плотность населения примерно 2 человека на км кв. Коренное население относится к *финно-угорской языковой группе*. Республика богата запасами каменного угля, нефти, природного газа, лесными и водными ресурсами. Ведущими отраслями экономики являются топливная, лесная и целлюлозно-бумажная промышленность.



- Эта **республика** расположена в *европейской части* страны. Она слабо заселена.





## ТОПЛИВНАЯ ПРОМЫШЛЕННОСТЬ

Доля топливной промышленности в отраслевой структуре России



32%

Доля России в мировой добыче

12%



нефти

20%



природного газа

5,5%



угля



## ЗАПОМНИТЬ!!!

**Республика Коми** - единственная республика в европейской части, которая богата запасами каменного угля, нефти, природного газа.

# №1.

30

К О М И



## №2.

*Определите регион России по его краткому описанию.*

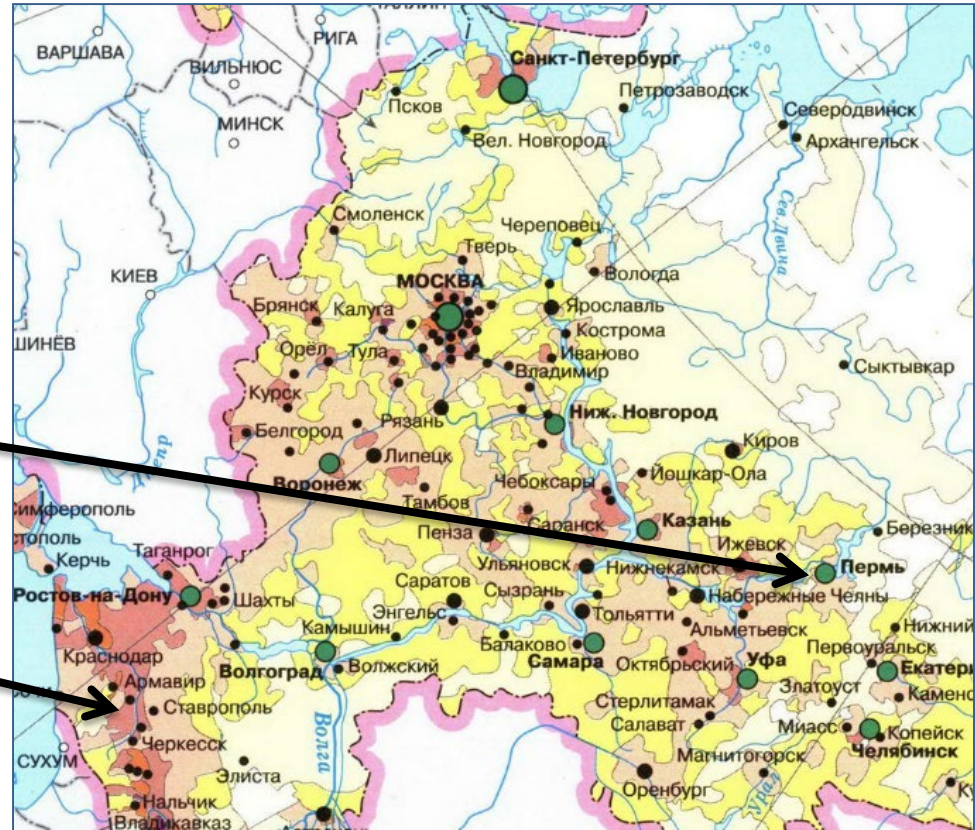
Территория этого края *не имеет выхода ни к морю, ни к Государственной границе России.* Бóльшая часть территории имеет равнинный рельеф. Здесь находится одно из крупнейших в мире месторождений *калийных солей*. В краевом центре проживает *более миллиона человек*.





Территория этого края не имеет выхода ни к морю, ни к Государственной границе России.





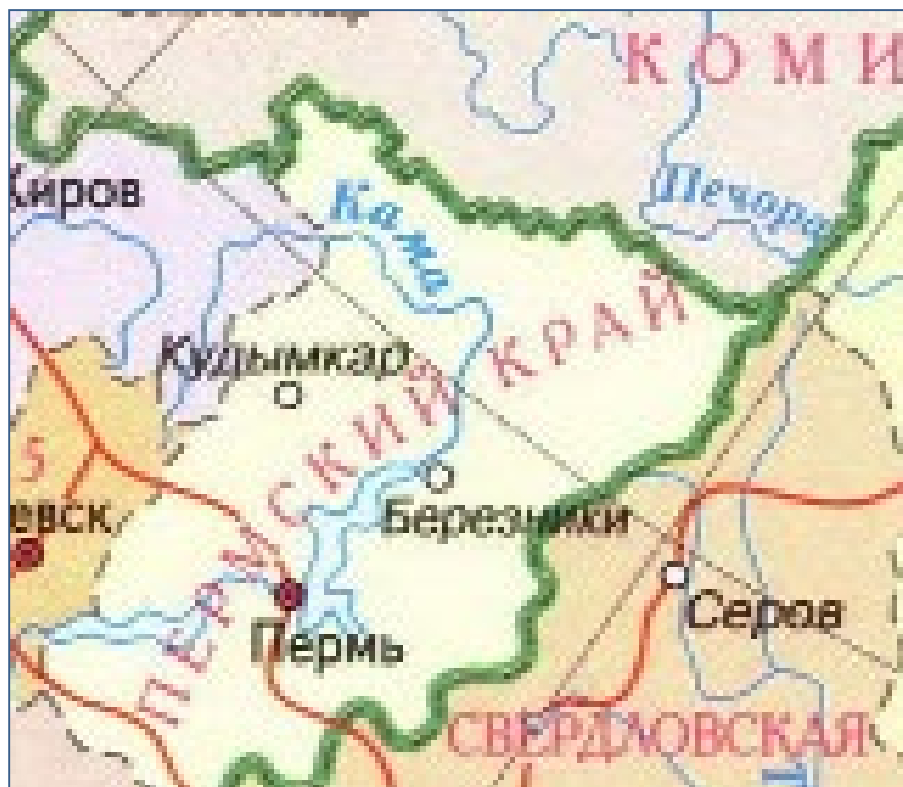
- В краевом центре проживает **более миллиона** человек.



# №2.

30

П е р м с к и й



## ЗАДАНИЕ №3.

**Определите регион России по его краткому описанию.**

Особенностью ЭГП этой **области** является наличие *выхода к Государственной границе Российской Федерации с тремя европейскими странами*. Более трети территории области занимают *леса*. Другой особенностью её природы является обилие *озёр*. Полезными ископаемыми область небогата: разведаны залежи торфа и строительных материалов. Основные отрасли промышленности: машиностроение, деревообрабатывающая, лёгкая и пищевая. В сельском хозяйстве преобладает молочное скотоводство; растениеводство специализируется на производстве кормовых культур.



# АДМИНИСТРАТИВНАЯ КАРТА РОССИИ



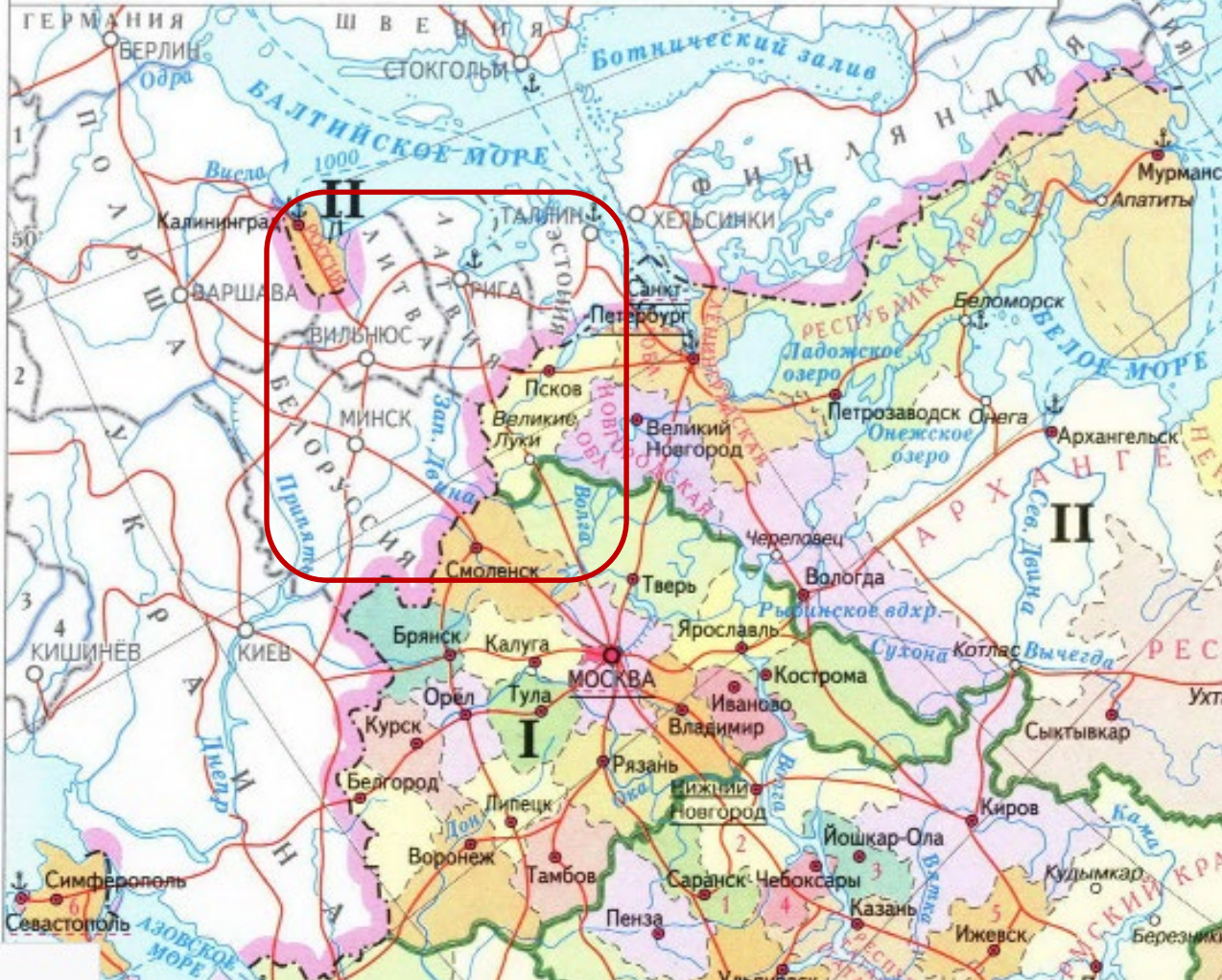
РОССИЙСКАЯ ФЕДЕРАЦИЯ — РОССИЯ ЕСТЬ ДЕМОКРАТИЧЕСКОЕ ФЕДЕРАТИВНОЕ ПРАВОВОЕ ГОСУДАРСТВО С РЕСПУБЛИКАНСКОЙ ФОРМОЙ ПРАВЛЕНИЯ. НАИМЕНОВАНИЯ РОССИЙСКАЯ ФЕДЕРАЦИЯ И РОССИЯ РАВНОЗНАЧНЫ.

(Конституция Российской Федерации. Статья 1)



РОССИЙСКАЯ ФЕДЕРАЦИЯ СОСТОИТ ИЗ РЕСПУБЛИК, КРАЁВ, ОБЛАСТЕЙ, ГОРОДОВ ФЕДЕРАЛЬНОГО ЗНАЧЕНИЯ, АВТОНОМНОЙ ОБЛАСТИ, АВТОНОМНЫХ ОКРУГОВ — РАВНОПРАВНЫХ СУБЪЕКТОВ РОССИЙСКОЙ ФЕДЕРАЦИИ.

(Конституция Российской Федерации. Статья 5)



- Особенностью ЭГП этой **области** является наличие *выхода к Государственной границе Российской Федерации с **тремя** европейскими странами.*
- *Лес, озёра.*

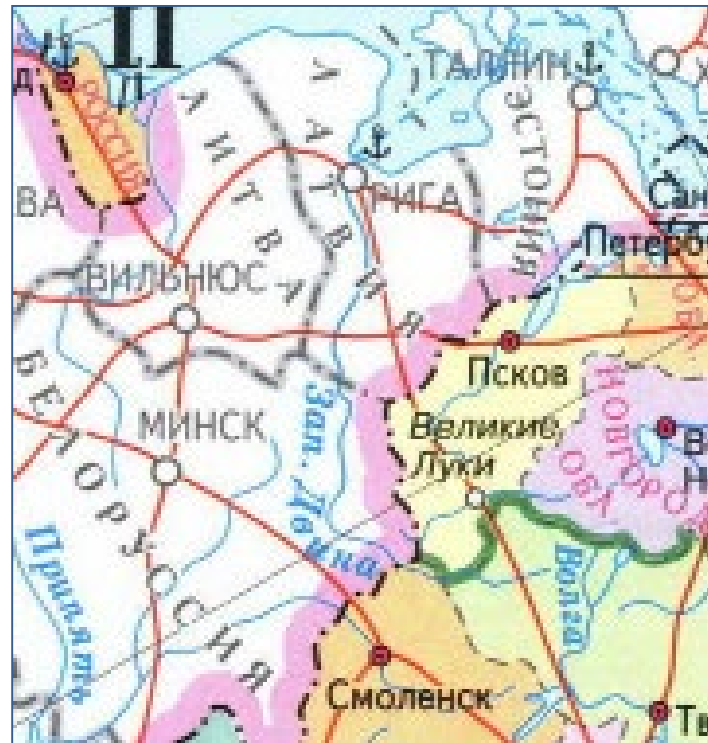
**ЗАПОМНИТЬ!!!**  
**Тверская область** –  
единственный  
субъект РФ, который  
граничит с тремя  
европейскими  
государствами.



# ЗАДАНИЕ №3.

30

П С К О В С К А Я

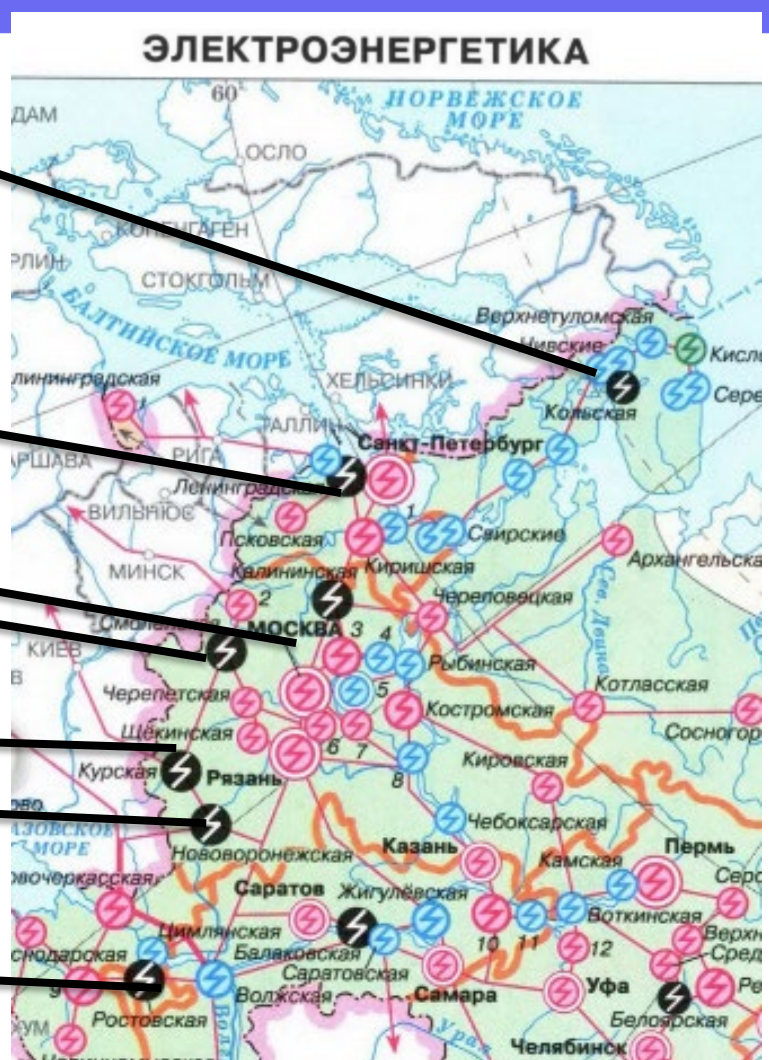
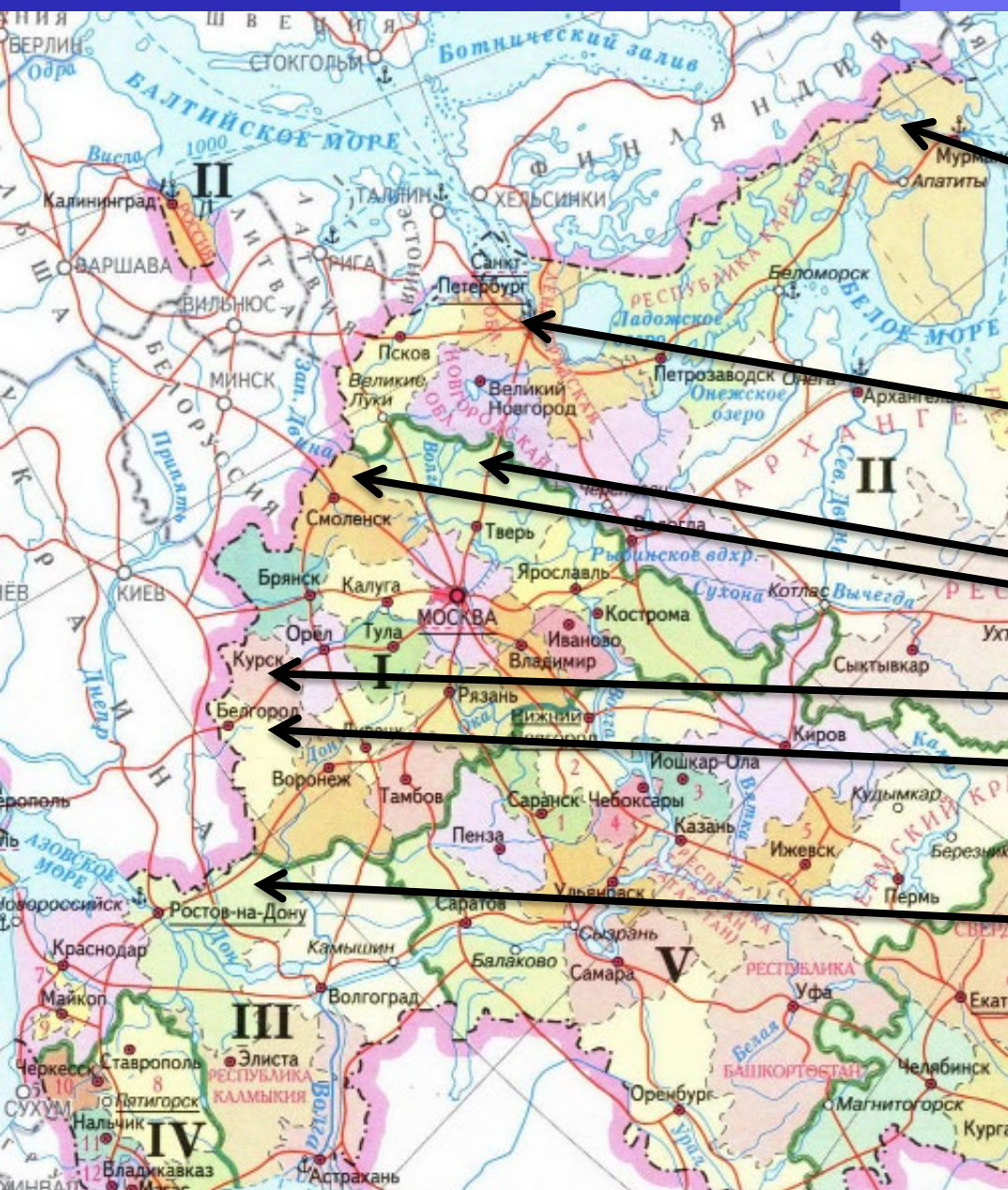


## №4.

*Определите регион России по его краткому описанию.*

Эта область находится в *европейской* части России.

Главными природными богатствами являются плодородные *чернозёмные почвы и железные руды*: на территории области расположено одно из крупнейших по запасам и объёмам добычи железорудных месторождений России. Основу хозяйства, кроме добычи железных руд, составляют сельское хозяйство, пищевая промышленность и электроэнергетика. Действующая в области крупная **АЭС** обеспечивает потребности в электроэнергии как самой области, так и соседних регионов.

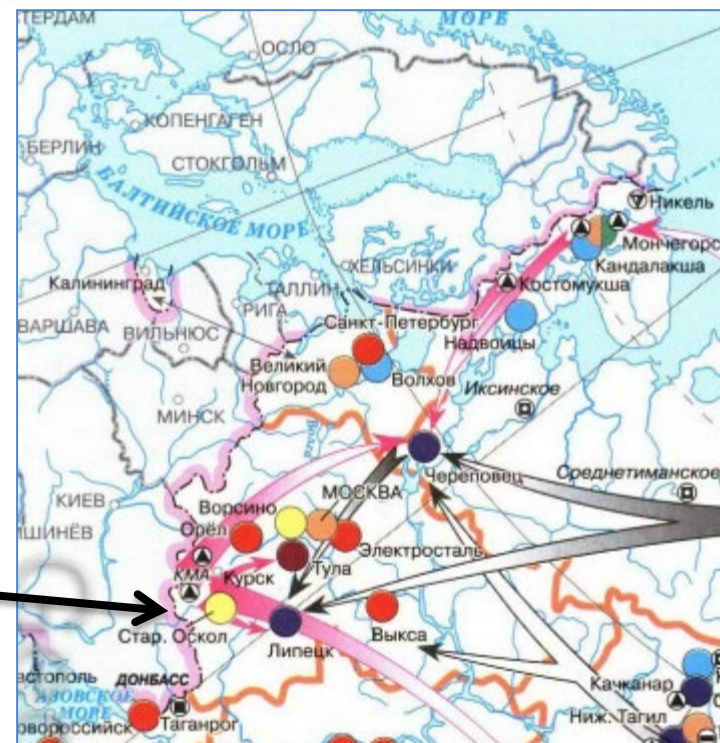


*чернозёмные почвы*  
*железные руды*  
**АЭС**





## ЧЁРНАЯ И ЦВЕТНАЯ МЕТАЛЛУРГИЯ

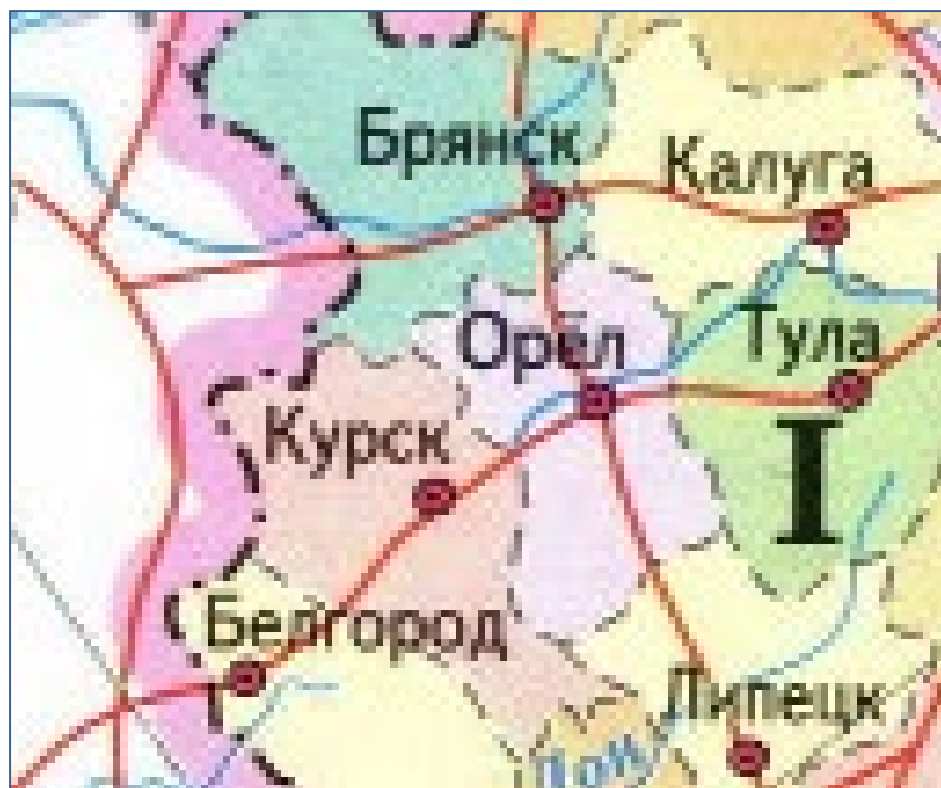


*чернозёмные почвы*  
*железные руды*  
**АЭС**

# №4.

30

К у р с к а я



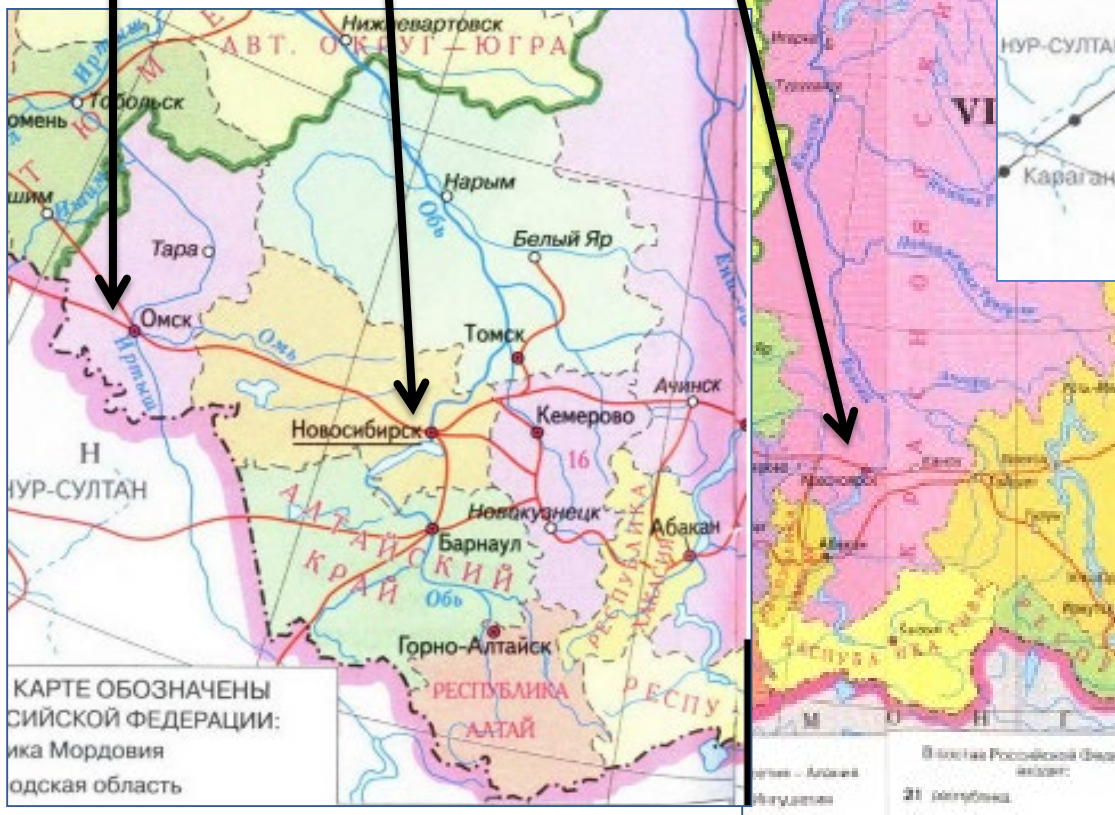
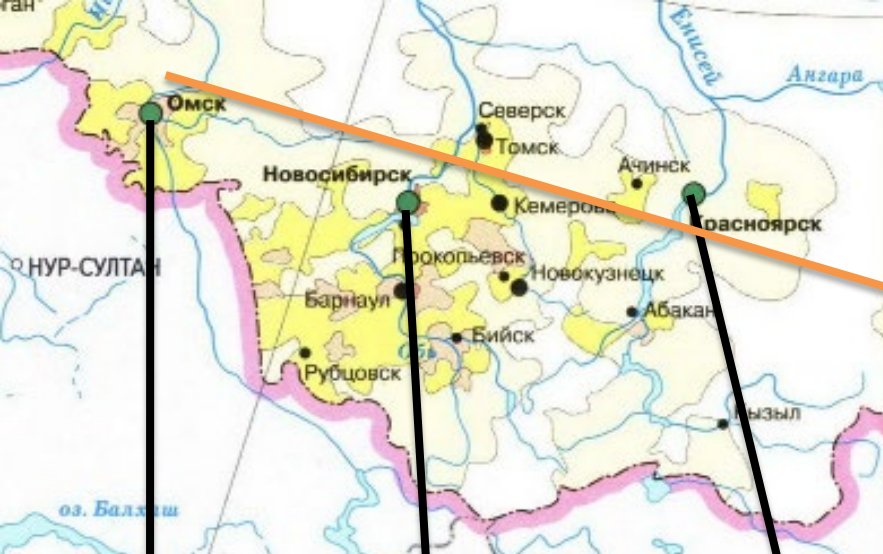


## №5.

*Определите город России по его краткому описанию.*

Этот город-миллионер расположен на берегах одной из крупных *сибирских рек. Область*, административным центром которой он является, имеет *выход к государственной границе* России. Основу промышленности составляют предприятия машиностроения и нефтехимии, здесь находится крупнейший в азиатской части России *нефтеперерабатывающий завод*.

# ТОПЛИВНАЯ ПРОМЫШЛЕННОСТЬ



ВАЖНЕЙШИЕ ЦЕНТРЫ ПЕРЕРАБОТКИ

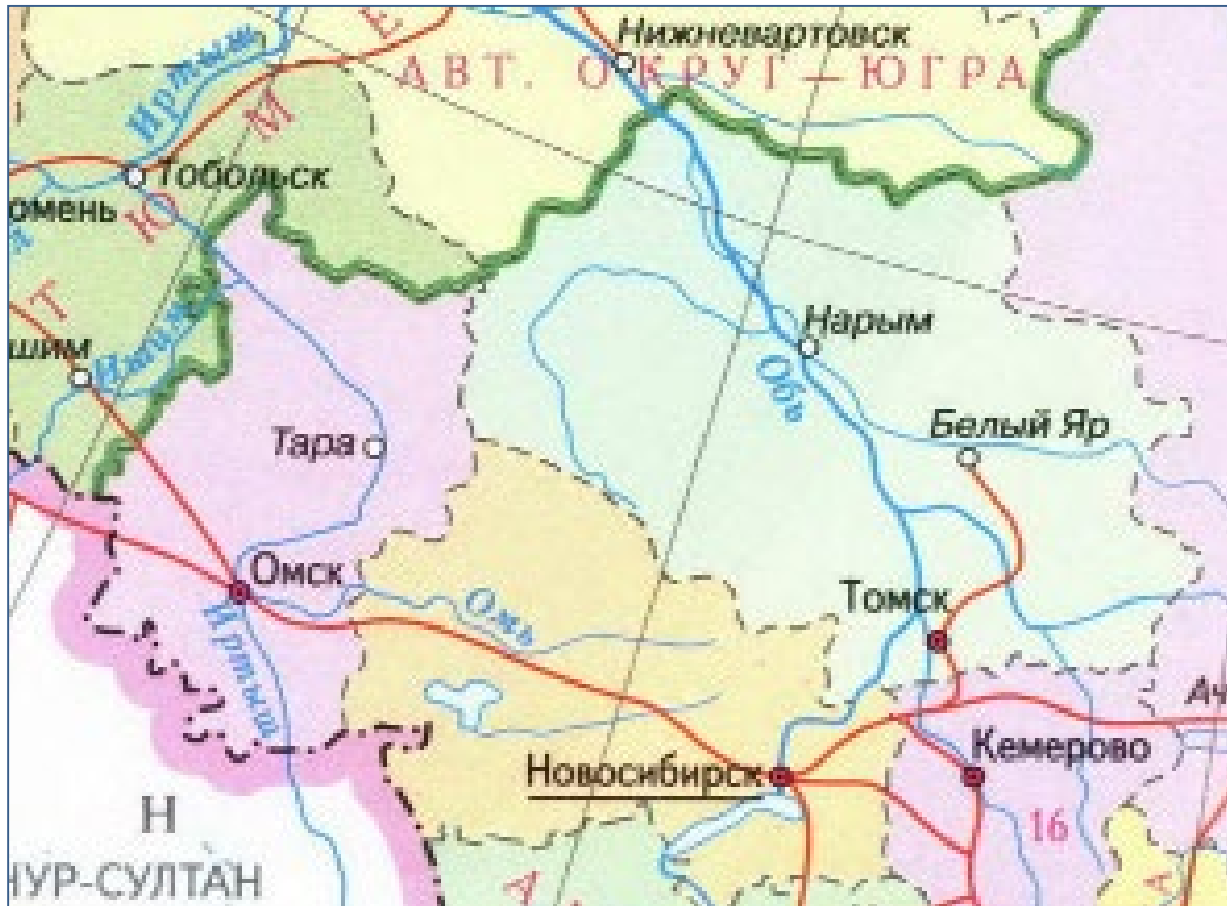
- нефти
- нефти и газа
- газа

- *Выход к государственной границе*
- *Нефтеперерабатывающий завод*

# №5.

30

О М С К





# ГОРОД-МИЛЛИОНЕР



Использовать карту  
«Размещение населения»  
(8 или 9 класс)



## РАЗМЕЩЕНИЕ НАСЕЛЕНИЯ



На территории субъекта расположена АЭС




Использовать карту «Электроэнергетика России» (9 класс)





**На территории субъекта  
могут быть землетрясения и  
размещены вулканы**



**Использовать карту  
«Тектоническое строение и  
минеральные ресурсы» или  
«Опасные природные явления»  
(8 класс)**



**Калининградская  
область - ЯНТАРЬ**

**Псковская область -  
единственный субъект  
РФ, который граничит с  
тремя европейскими  
государствами**

**Республика Коми -  
единственная республика  
в европейской части,  
которая богата запасами  
каменного угля, нефти,  
природного газа**

**Архангельская область  
– добыча алмазов в  
европейской части  
России**

**Чукотский  
автономный округ –**  
расположен в  
восточном и западном  
полушарии

**Сахалинская область**  
– единственный  
субъект РФ, который  
расположен на острове

**Республика Алтай –**  
единственный субъект  
РФ, который граничит  
с тремя азиатскими  
государствами

# ЗАДАНИЕ 30

**ОПРЕДЕЛИТЕ СТРАНУ ПО ЕЁ  
КРАТКОМУ ОПИСАНИЮ.**





## Страны - лидеры по площади территории.

№	страна	площадь, км <sup>2</sup>
1	Россия	17 125 191
2	Канада	9 984 670
3	Китай	9 598 962
4	США	9 147 593
5	Бразилия	8 515 767
6	Австралия	7 686 850
7	Индия	3 287 263
8	Аргентина	2 780 400
9	Казахстан	2 724 902
10	Алжир	2 381 740

## Рейтинг стран по численности

№	страна	численность, чел.
1	Китай	1 426 512 000
2	Индия	1 410 648 000
3	США	336 023 460
4	Индонезия	280 488 501
5	Пакистан	228 047 570
6	Бразилия	218 318 500
7	Нигерия	216 626 390
8	Бангладеш	179 769 319
9	Россия	147 182 123
10	Мексика	128 649 565
11	Япония	124 830 000



# Десять самых больших

*стран* *мира*

по площади



800 x 479

# №1

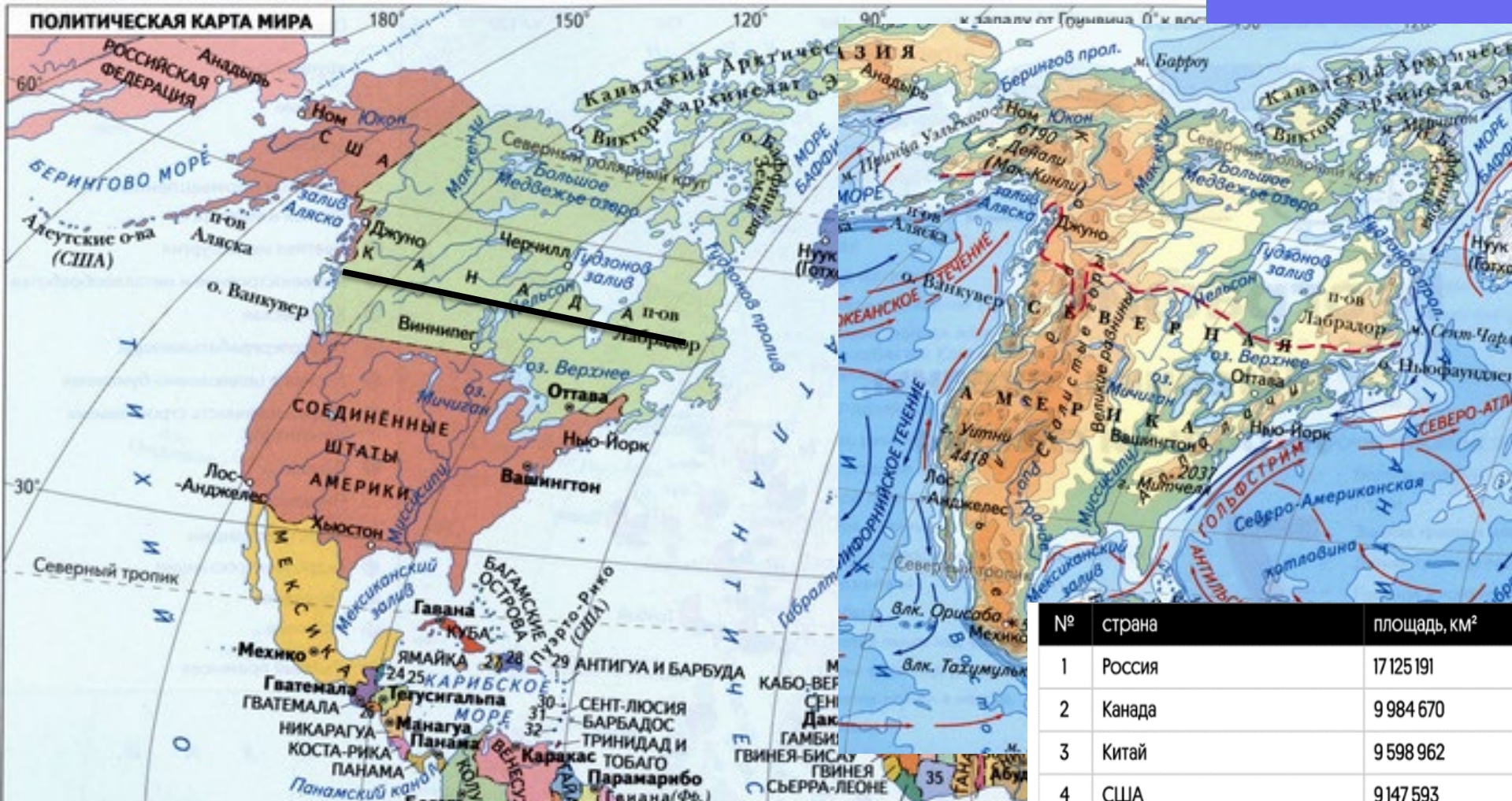
*Определите страну по её краткому описанию.*

Это одна из самых *больших по площади* территории стран мира. Расположена в *Северном полушарии*. Её берега омывают воды *трёх океанов*. Западную часть страны занимают горы. Страна исключительно богата лесными ресурсами, пушным зверем, запасами пресной воды, различными полезными ископаемыми. Имеет сухопутную *границу только с одной страной*. Столица – не самый большой по численности населения город страны.

## ПОЛИТИЧЕСКАЯ КАРТА МИРА



*больших по площади  
в северном полушарии  
три океана  
граница только с одной страной*



*больших по площади  
в северном полушарии  
три океана  
граница только с одной страной*

№	страна	площадь, км <sup>2</sup>
1	Россия	17 125 191
2	Канада	9 984 670
3	Китай	9 598 962
4	США	9 147 593
5	Бразилия	8 515 767
6	Австралия	7 686 850
7	Индия	3 287 263
8	Аргентина	2 780 400
9	Казахстан	2 724 902
10	Алжир	2 381 740



## №2.

*Определите страну по её краткому описанию.*

Эта страна расположена в *двух частях света*.

Большую часть её территории занимает нагорье, здесь часто происходят *землетрясения*. Столица – не самый большой по численности населения город в стране. *Субтропический климат*, живописное морское побережье, обилие историко-культурных памятников привлекают в страну *большое число туристов*.

# Государства, расположенные в двух частях света -

Россия, Египет, Турция

*в двух частях света  
субтропический климат  
землетрясения*



**3** Тропические

**4** Субтропические

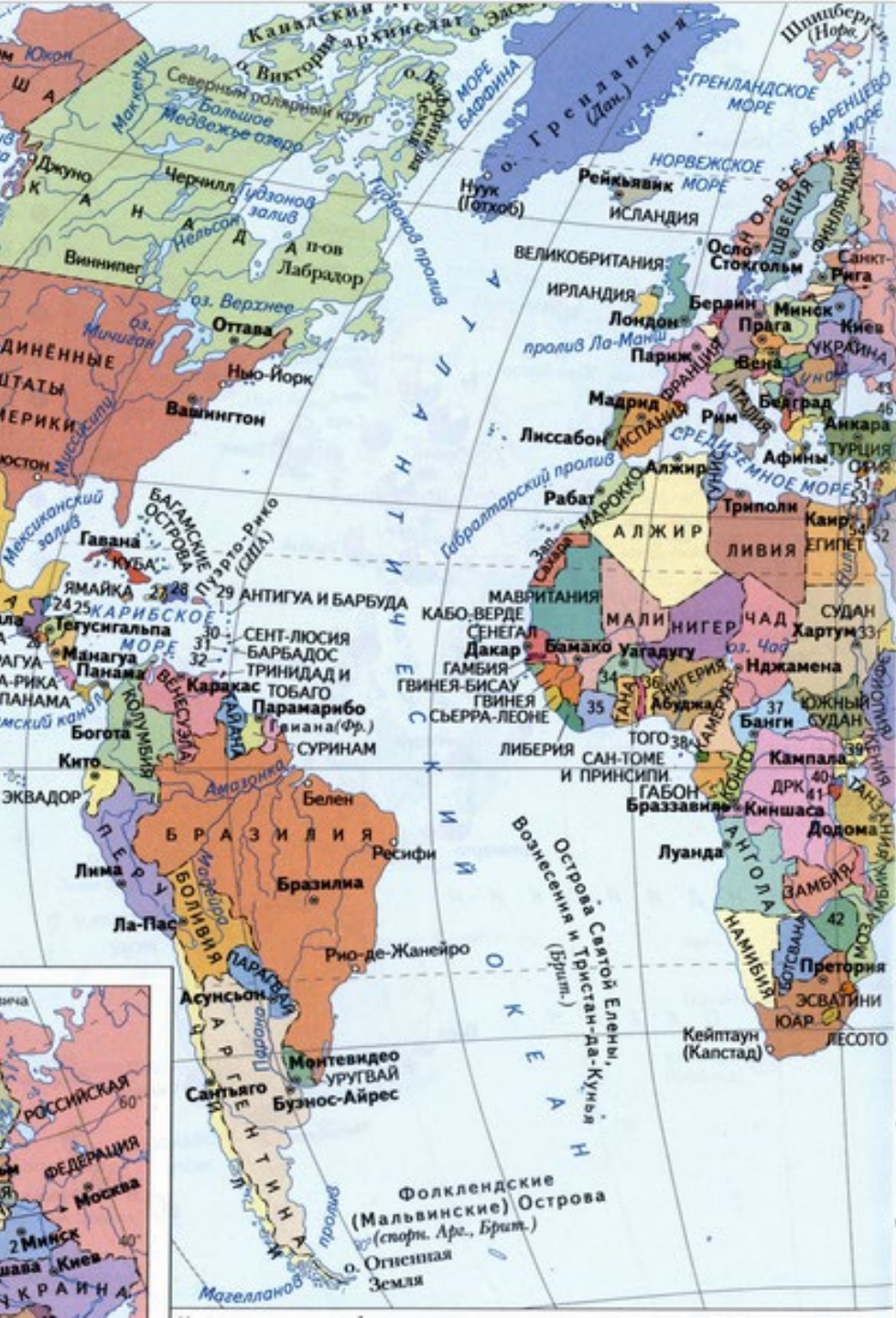
## №3.

*Определите страну по её краткому описанию.*

Эта страна имеет выход к *Атлантическому океану*. На её территории находится *крайняя западная точка материка*, на котором она расположена. Климат – *субэкваториальный*.

Символом страны являются коренастые великаны саванны – *баобабы*.





- ВЫХОД к *Атлантическому океану*
- *крайняя западная точка материка*
- *субэкваториальный климат*
- *баобабы*





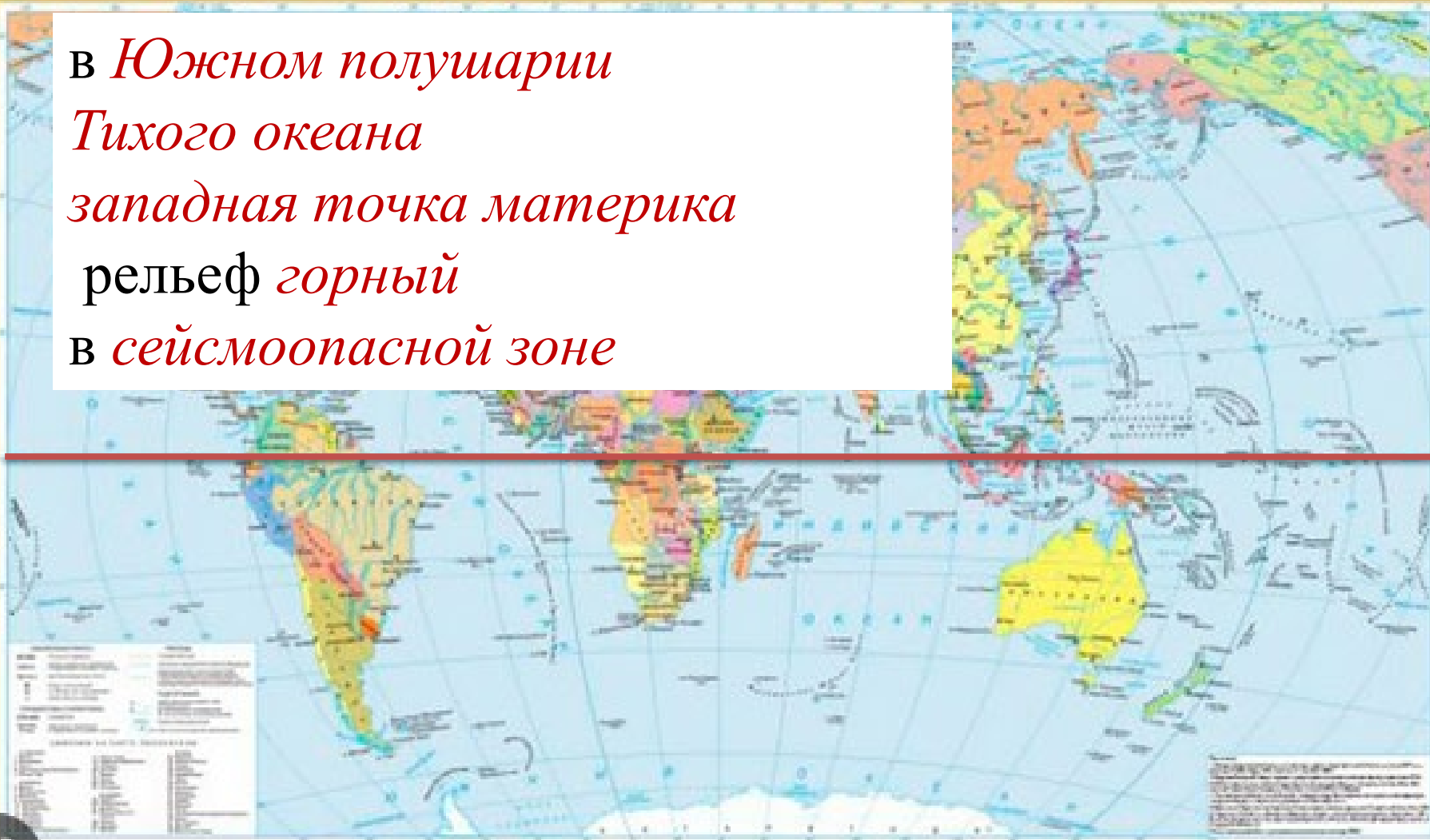
## №4.

*Определите страну по её краткому описанию.*

Эта страна находится в *Южном полушарии*.  
Побережье омывается водами *Тихого океана*.  
На её территории находится крайняя *западная точка материка*, на котором она расположена.  
Рельеф преимущественно *горный*. Территория страны находится в *сейсмоопасной зоне*.

## ПОЛИТИЧЕСКАЯ КАРТА МИРА

В Южном полушарии  
Тихого океана  
западная точка материка  
рельеф горный  
в сейсмоопасной зоне





В Южном полушарии  
Тихого океана  
западная точка материка  
рельеф горный  
В сейсмоопасной зоне

# ПЕРУ



Зоны землетрясений и  
современного горообразования

Границы регионов



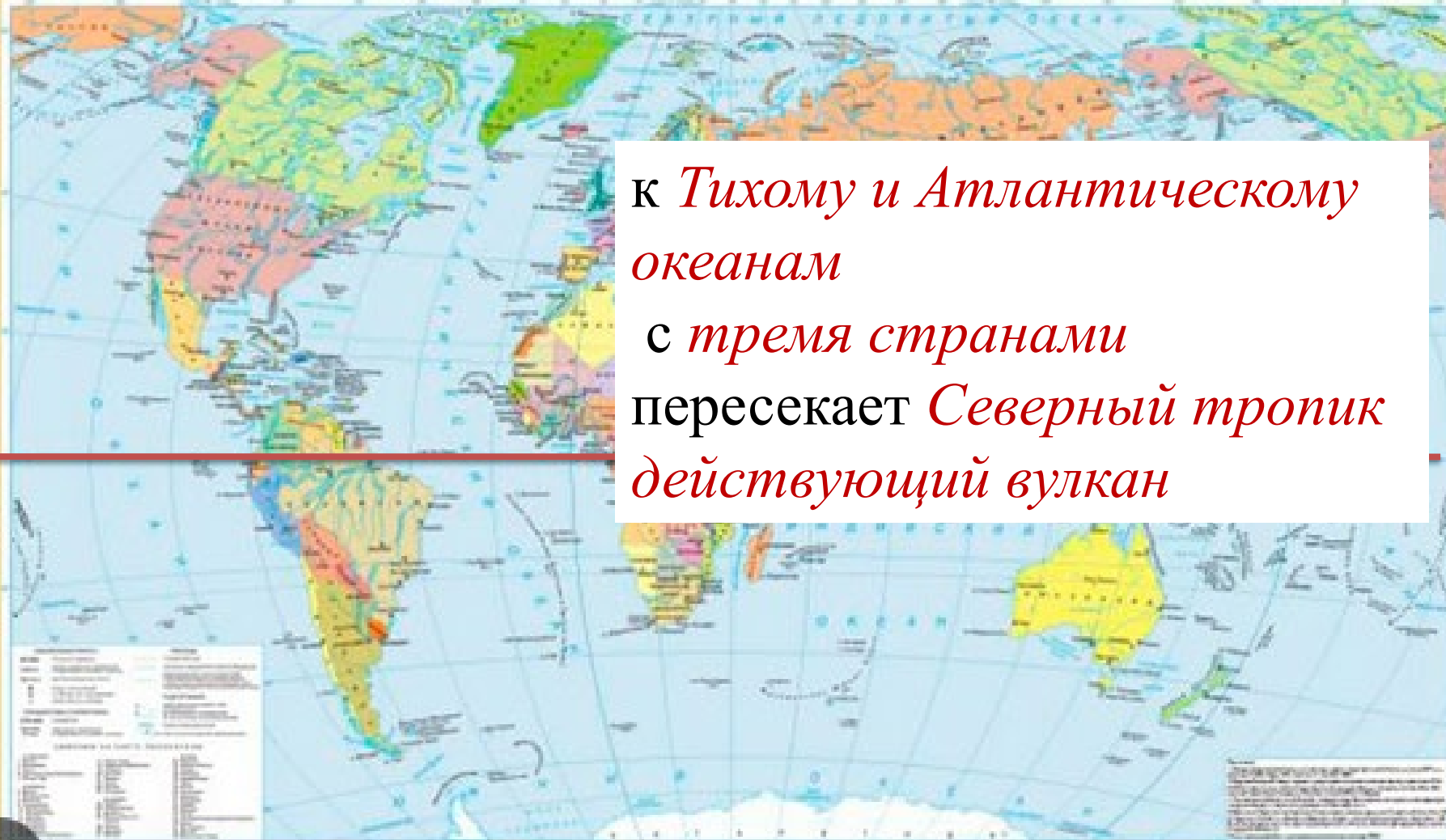
## №5.

*Определите страну по её краткому описанию.*

Эта страна имеет выход к *Тихому и Атлантическому океанам*. По суше граничит с *тремя странами*. Её территорию пересекает *Северный тропик*. Рельеф преимущественно горный. В горах находится самый высокий *действующий вулкан материка*, на котором расположена страна.



## ПОЛИТИЧЕСКАЯ КАРТА МИРА



к *Тихому и Атлантическому океанам*  
с *тремя странами*  
пересекает *Северный тропик*  
*действующий вулкан*

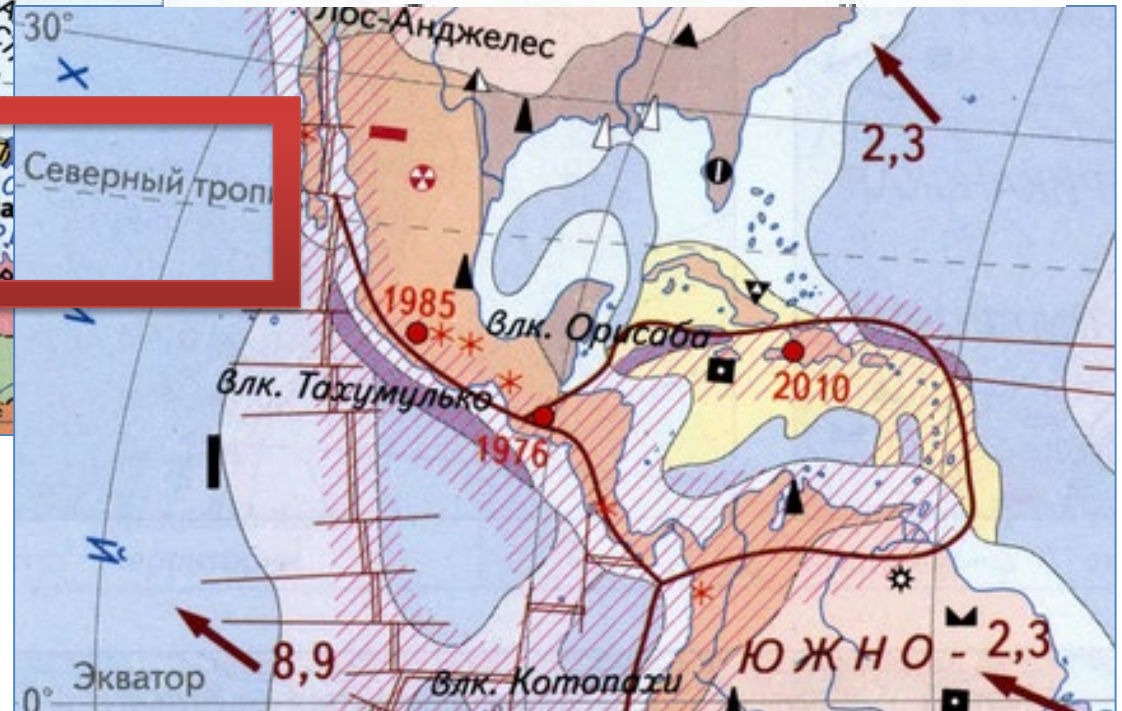
The image shows a political map of the world with a red horizontal line drawn across it, representing the Tropic of Cancer. The line passes through the northern parts of North and South America, the Atlantic Ocean, and the western part of Africa. The map is color-coded by country, and the text is overlaid on a white rectangular box.

К Тихому и Атлантическому океанам с тремя странами пересекает Северный тропик действующий вулкан

# МЕКСИКА

## Вулканы

\* действующие \* потухшие

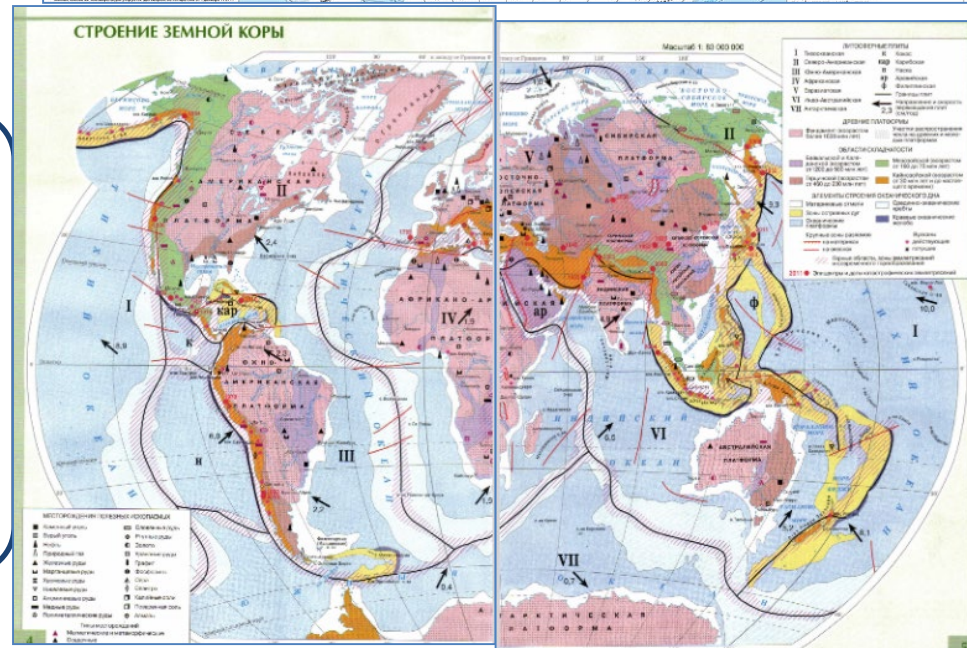




**На территории  
страны могут быть  
землетрясения и  
размещены вулканы**



**Использовать карту  
«Тектоническая карта  
мира»  
(7 класс)**

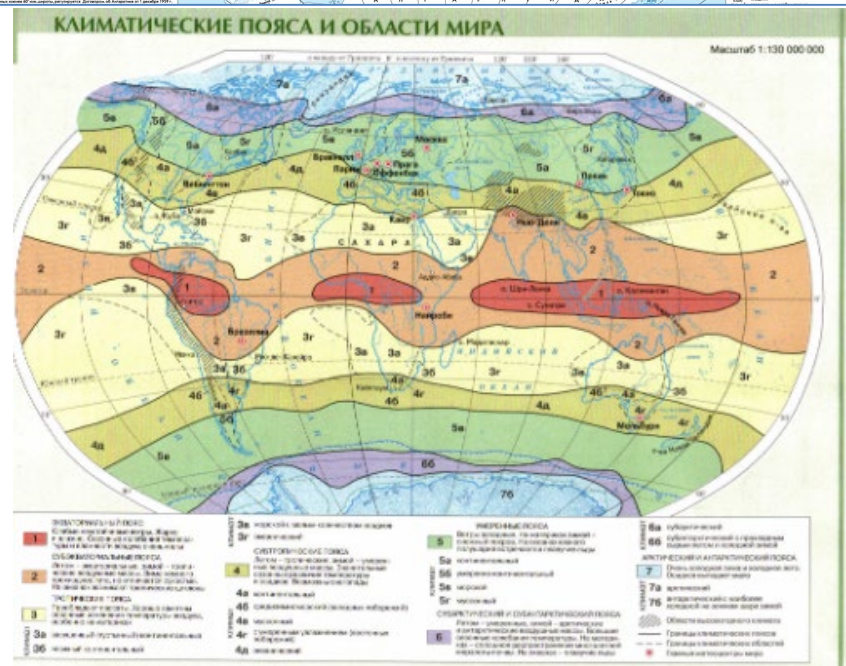




**На территории  
страны указаны  
климатические пояса**



**Использовать карту  
«Климатические пояса  
и области мира»  
(7 класс)**



# КРАЙНИЕ ТОЧКИ

<i>МАТЕРИК</i>	<i>ТОЧКИ</i>		<i>СТРАНА</i>
<b>ЕВРАЗИЯ</b>	северная	мыс Челюскин	Россия
	южная	мыс Пиай	Малайзия
	западная	мыс Рока	Португалия
	восточная	мыс Дежнёва	Россия
<b>АФРИКА</b>	<i>северная</i>	<i>мыс Бен-Секка</i>	<i>Тунис</i>
	<i>южная</i>	<i>мыс Игольный</i>	<i>ЮАР</i>
	<i>западная</i>	<i>мыс Альмади</i>	<i>Сенегал</i>
	<i>восточная</i>	<i>Рас-Хафун</i>	<i>Сомали</i>

# КРАЙНИЕ ТОЧКИ

<i>МАТЕРИК</i>	<i>ТОЧКИ</i>		<i>СТРАНА</i>
<b>СЕВЕРНАЯ АМЕРИКА</b>	северная	мыс Мерчисон	Канада
	южная	мыс Марьято	Панама
	западная	мыс Принца Уэльского	США
	восточная	мыс Сент-Чарльз	Канада
<b>ЮЖНАЯ АМЕРИКА</b>	<i>северная</i>	<i>мыс Гальинас</i>	<i>Венесуэла</i>
	<i>южная</i>	<i>мыс Фроуард</i>	<i>Чили</i>
	<i>западная</i>	<i>мыс Париньяс</i>	<i>Перу</i>
	<i>восточная</i>	<i>мыс Кабу-Бранку</i>	<i>Бразилия</i>



ВСЕМ  
УДАЧИ НА  
ЭКЗАМЕНЕ!