

РАЗДЕЛ «НАСЕЛЕНИЕ МИРА» В ЗАДАНИЯХ ЕГЭ 2024 ГОДА ПО ГЕОГРАФИИ

**Вислогузова Е.А.,
учитель географии
МАОУ СОШ № 16 им. К.И. Недорубова,
Кущевский район Краснодарского края**



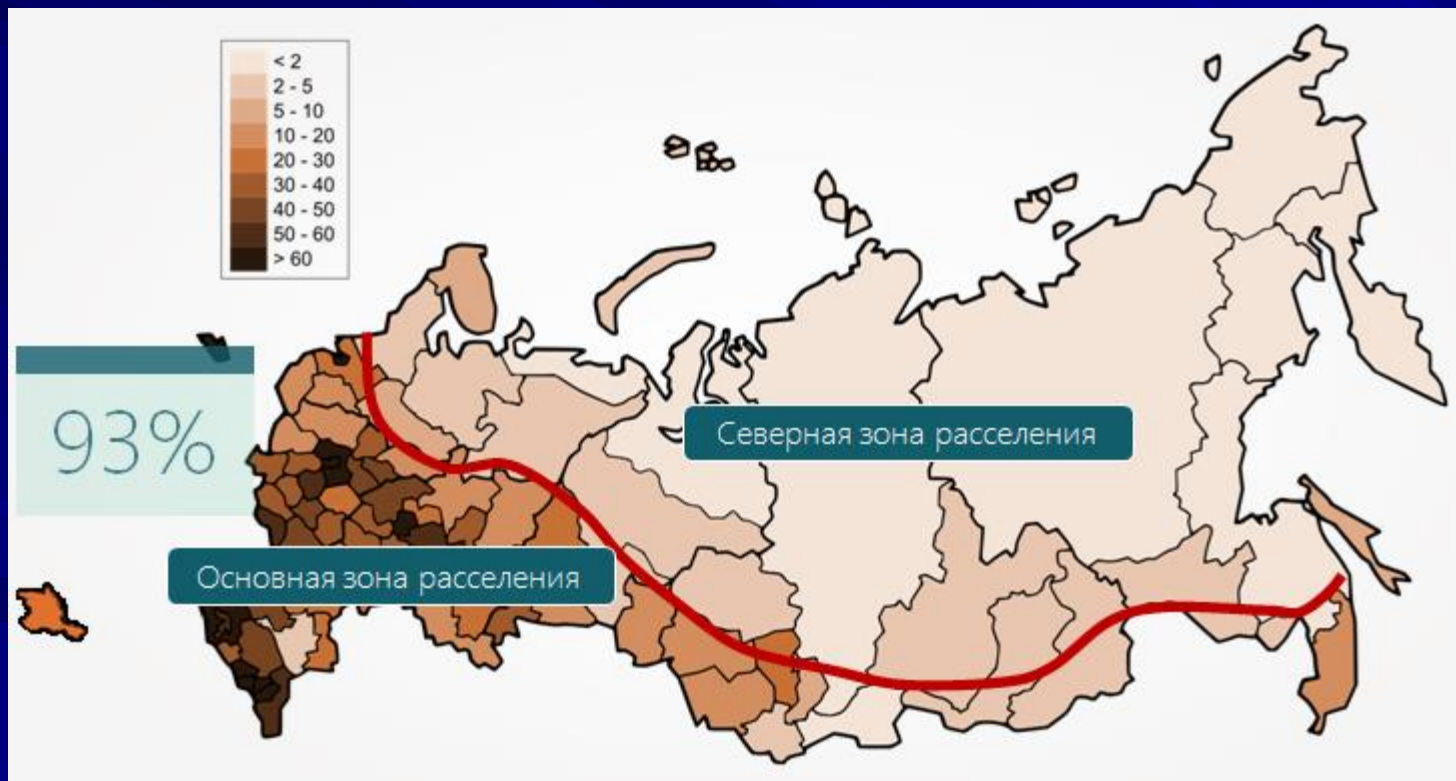
Задание 6.

Густонаселенные регионы России расположены в районах с благоприятными природными условиями, имеют развитую транспортную инфраструктуру. Какие три из перечисленных регионов России имеют наибольшую среднюю плотность населения? (запишите в таблицу 3 цифры).

- 1) Брянская область
- 2) Тульская область
- 3) Курская область
- 4) Мурманская область
- 5) Республика Коми
- 6) Республика Бурятия

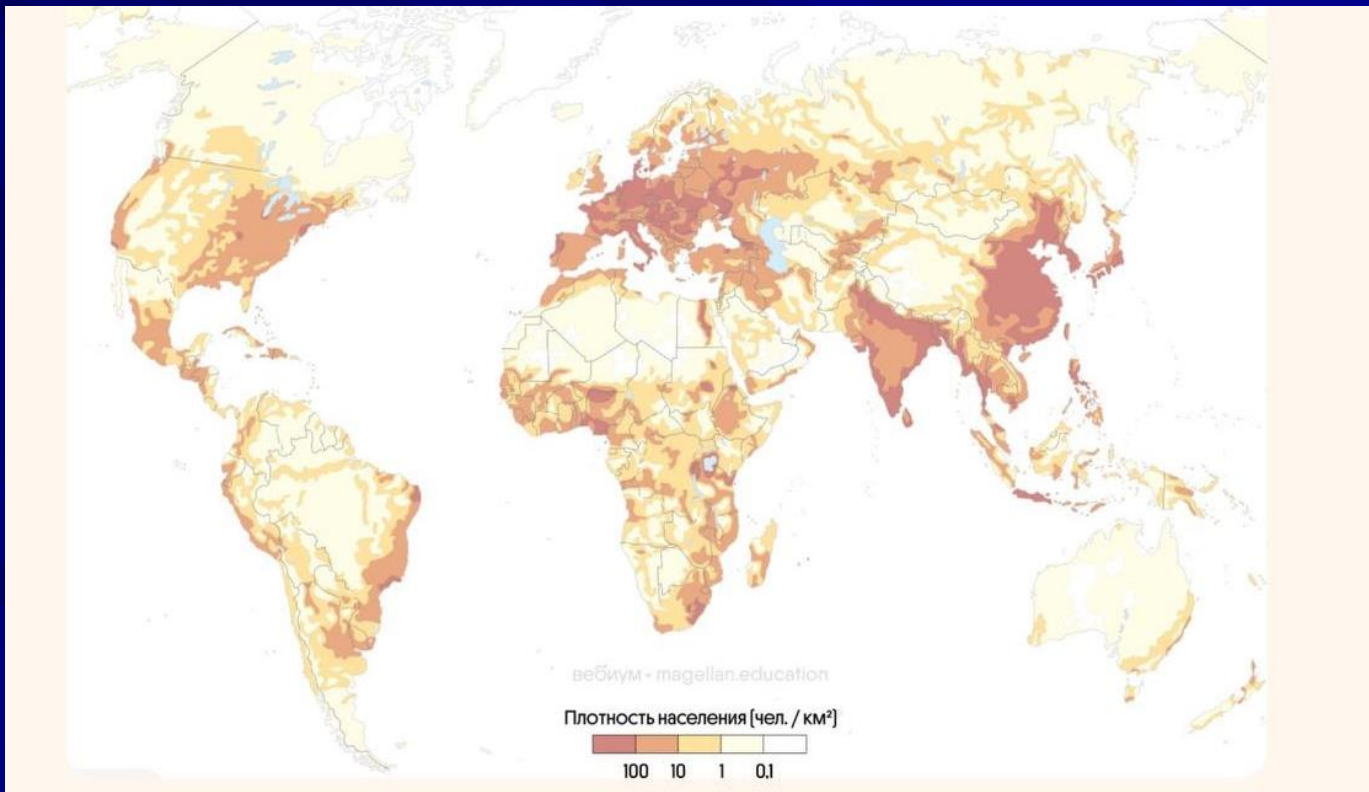
Плотность населения РФ

- высокая – в пределах основной полосы расселения
- низкая – за пределами основной полосы расселения
(севернее, а в Сибири южнее (в поясе гор))



Плотность населения мира

- высокая – Европа (кроме Северной), Восточная часть Северной Америки, Южная, Юго-Восточная и Восточная Азия
- низкая – в субарктическом, арктическом климатических поясах, в пустынях, высокогорьях, сельве, континентальных частях



Задание 6.

Численность населения города – важный фактор, определяющий его экономическое и социальное развитие. Какие три из перечисленных городов России имеют наибольшую численность населения.

- 1) Новосибирск
- 2) Томск
- 3) Петрозаводск
- 4) Ставрополь
- 5) Уфа
- 6) Ростов-на-Дону

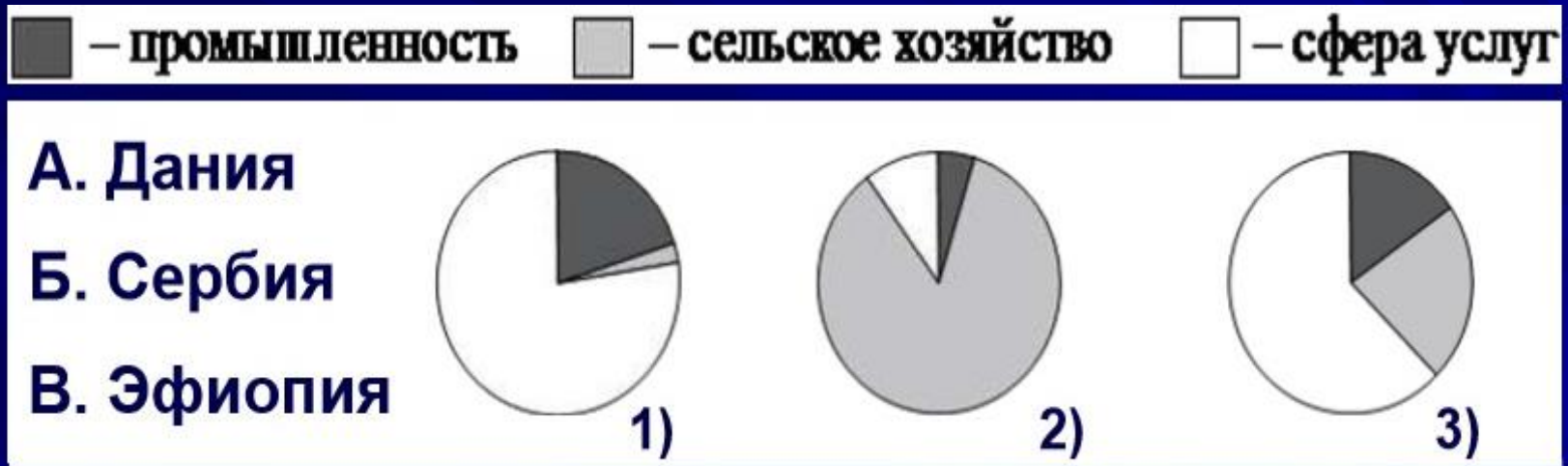
Население России

Крупнейшие города России – города миллионеры:

- 2 столицы: Москва, Санкт-Петербург
- 4 на Волге: Нижний Новгород, Казань, Самара, Волгоград
- 4 на Урале: Екатеринбург, Челябинск, Уфа, Пермь
- 3 в Сибири: Новосибирск, Омск, Красноярск
- 3 на юге: Ростов-на-Дону, Воронеж, Краснодар

Задание 7.

- В наиболее развитых странах большая часть населения занята в сфере услуг, в наименее развитых – в сельском хозяйстве.



Дания – развитая страна, большая часть населения занята в сфере услуг. Диаграмма 1.

Эфиопия – развивающаяся страна, относится к беднейшим странам мира, большая часть населения занята в сельском хозяйстве. Диаграмма 2.

Задание 8.

- Расположите перечисленные страны в порядке возрастания в них показателя ИЧР (индекса человеческого развития), начиная со страны с наименьшим значением этого показателя.

- 1) Нигерия
- 2) Мексика
- 3) Швеция

- Для решения задания важно знать уровень развития стран. В развитых странах высокий показатель ИЧР (страны Европы, Северная Америка, Австралия и др.), в развивающихся, особенно беднейших странах (Африка, Азия) – низкий показатель ИЧР.

Задание 8.

■ Расположите перечисленные страны в порядке убывания в них доли лиц старше 65 лет в возрастной структуре населения, начиная со страны с наибольшим значением этого показателя.

1) Бразилия

2) Кения

3) Франция

Варианты:

1. рождаемость, естественный прирост, средняя ожидаемая продолжительность жизни, показатель ИЧР;
2. в порядке возрастания или в убывания

Задание 8.

показатель	Развитые страны	Развивающиеся страны
рождаемость	низкая	высокая
естественный прирост	низкий	высокий
доля лиц старше 65 лет	высокая	низкая
ожидаемая продолжительность жизни	высокая	низкая
показатель ИЧР	высокий	низкий

Естественный прирост населения (‰)

самый низкий	невысокий	высокий	самый высокий
Страны Европы	Страны переселенческого капитализма и некоторые развитие страны +??	Большинство стран Латинской Америки и Зарубежной Азии	Страны Африки и некоторые страны Азии
Болгария (-6), Литва, (-5), Латвия, Сербия, Украина, Венгрия, Хорватия, Румыния, Германия, Белоруссия, Греция, Эстония, Португалия, Япония, Италия, Россия (-2,4), Босния и Герцеговина, Молдавия, Чехия, Польша, Словения (-0,7), Словакия (-0,3)	США, Канада, Австралия, Новая Зеландия, Китай, Израиль, Аргентина, Чили, Бразилия	Индия, Средняя Азия, Монголия, Пакистан, Иран, Турция, Индонезия, Бангладеш, Саудовская Аравия, Колумбия, Перу, Венесуэла	Ангола (34,7), Мали, Малави, Уганда, Бурунди, Нигер, Либерия, Замбия, Эфиопия (28,5), Танзания, Бенин, Сомали, Ирак, Того

Задание 12.

Выберите все высказывания с информацией о естественном движении населения и запишите цифры, под которыми они указаны.

- 1) За последние 10 лет численность населения Африки увеличилась на 320 млн человек: с 1,099 до 1,419 млрд.
- 2) В ноябре 2022 г. численность населения мира достигла 8 млрд человек, хотя темпы прироста за последние 50 лет снизились вдвое.
- 3) По данным Росстата, в 2021 г. в России на свет появилось 1 398 255 детей, а число умерших составило 2 441 590 человек.
- 4) Доля людей в возрасте старше 65 лет в общей численности населения мира повысилась в 2022 г. до 10 %.
- 5) За два года пандемии средняя продолжительность жизни населения мира снизилась на 1,8 года, составив в 2021 году 71,0 года.

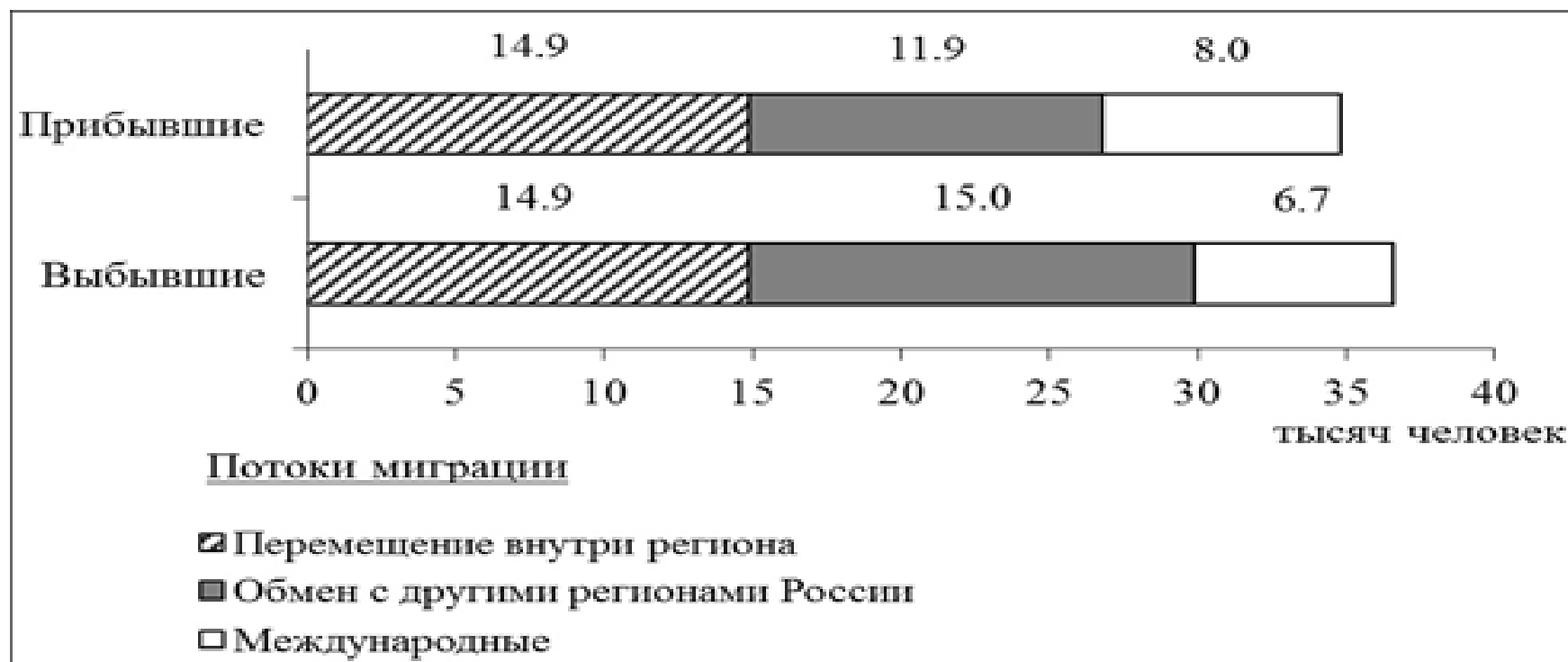
Ответ: _____.

Варианты: миграция, урбанизация, воспроизводство населения, естественное движение.

Задание 16.

Используя данные диаграммы, определите величину миграционного прироста Тамбовской области в 2019 г. Ответ запишите в виде числа (по образцу, указанному в инструкции по выполнению работы).

Распределение числа мигрантов по основным потокам передвижения, 2019 г. (тыс. человек)



Ответ: _____ тыс. человек.

Задание 16.

Используя данные диаграммы, определите величину миграционного прироста Тамбовской области в 2019 г. Ответ запишите в виде числа (по образцу, указанному в инструкции по выполнению работы).

Распределение числа мигрантов по основным потокам передвижения, 2019 г. (тыс. человек)



Ловушка: единицы измерения, знак (положительный или отрицательный миграционный прирост)

Ответ: _____ тыс. человек.

Варианты задания 16.

Показатель	2010 г.	2011 г.	2012 г.
Численность постоянного населения на 1 января, человек	2 641 016	2 633 550	2 631 073
Среднегодовая численность населения, человек	2 637 570	2 632 312	Нет данных
Естественный прирост населения, человек, значение показателя за год	- 3067	-1670	Нет данных

16.1) показатель естественного прироста (в ‰) в 2011 году.

При расчетах используйте показатель среднегодовой численности населения. Полученный результат округлите до десятых долей промилле;

16.2) величину миграционного прироста (убыли) населения в 2011 году.

АЛГОРИТМ РЕШЕНИЯ ЗАДАЧИ:

1) $C:D \times 1000 = \underline{\hspace{2cm}} \text{‰}$

2) $(A-B)-C = \underline{\hspace{2cm}}$ человек



Задание 17.

Определение страны по описанию.

- Эта страна находится в Восточном полушарии. Значительные размеры обуславливают наличие на её территории нескольких природных зон. Страна входит в десятку крупнейших по численности населения стран мира. В международном географическом разделении труда она выступает в первую очередь как поставщик нефти, а также продукции тропического земледелия (какао-бобов, натурального каучука и др.). Экспорт осуществляется через морские порты на атлантическом побережье.

Задание 17.

Определение страны по описанию.

- Эта страна является самой населённой из испаноязычных стран. При этом в отдельных районах говорят на более чем 50 индейских диалектах. Население составляет более 130 млн человек, из которых более 9 млн проживает в столице. Юг страны – колыбель одной из величайших культур в истории человечества.

Численность населения стран

	Страна	Численность, млн чел.
1	Индия	1429
2	Китай	1426
3	США	340
4	Индонезия	278
5	Пакистан	240
6	Нигерия	224
7	Бразилия	216
8	Бангладеш	173
9	Россия	144
10	Мексика	128

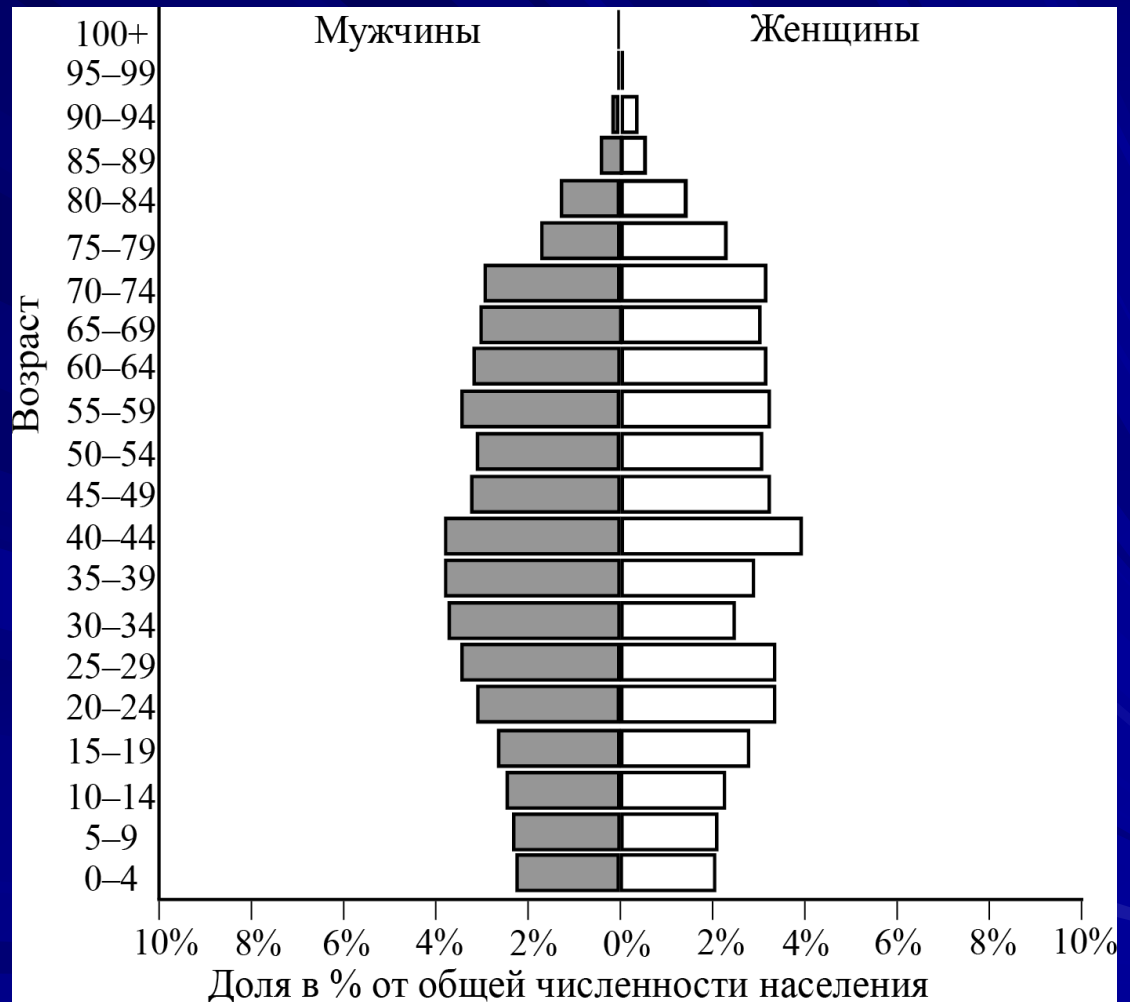
Япония, Эфиопия, Филиппины, Египет, ДРК

Задание 17.

- Страны с численностью населения >100 млн чел.
- Страны с большими различиями в плотности населения: Австралия, Бразилия, Египет, Канада, Китай, Россия
- Страны, в которых столица не является крупнейшим городом: Австралия, Бразилия, Канада, Нигерия, Пакистан, США, Турция, ФРГ
- Религии стран мира
- Языковой и национальный состав населения
- Уровень урбанизации стран (регионов мира)

Задание 26.

- 2,1 – суммарный коэффициент рождаемости, при котором численность населения страны сохраняется



<https://www.populationpyramid.net/ru/%D0%BC%D0%B8%D1%80-%D0%B7%D0%B5%D0%BC%D0%BB%D1%8F/2022/>

Задание 24.

- На основе анализа данных таблиц справочных материалов укажите, какая из стран: А или Б находится выше в рейтинге ООН по ИЧР.

Для обоснования Вашего ответа запишите необходимые числовые данные из таблиц и вычисления, на основании которых Вы сделали свое предположение.

- Показатели ИЧР: ВВП на душу населения, ожидаемая продолжительность жизни, грамотность населения и др.

Задание 24.

- На основе анализа данных таблиц справочных материалов укажите, **какая из стран: А или Б находится выше в рейтинге ООН по ИЧР.**
- Для обоснования Вашего ответа запишите необходимые числовые данные из таблиц и вычисления, на основании которых Вы сделали свое предположение.

Задание 24.

- На основе анализа данных таблиц справочных материалов укажите, **какая из стран: А или Б находится выше в рейтинге ООН по ИЧР.**
- Для обоснования Вашего ответа **запишите необходимые числовые данные из таблиц** и вычисления, на основании которых Вы сделали свое предположение.

Задание 24.

- На основе анализа данных таблиц справочных материалов укажите, **какая из стран: А или Б находится выше в рейтинге ООН по ИЧР.**
- Для обоснования Вашего ответа запишите необходимые числовые данные из таблиц и вычисления, на основании которых Вы сделали свое предположение.

Задание 24.

- Выше в рейтинге ООН по ИЧР находится страна **Б**.
- В стране **Б** **показатель значение**, что больше, чем **показатель** в стране **А** - **значение**.
- Определим **показатель** (*который нужно вычислить*).
В стране **А** **вычисления, единицы измерения (!!!)**.
В стране **Б** **вычисления, единицы измерения (!!!)**.
- В стране **Б** **показатель значение**, что больше, чем **показатель** в стране **А** – **значение**.

ВАЖНО!!! Единицы измерения (млн и млрд),
формулировка показателя (ВВП или ВВП на душу населения).