

A dramatic mountain landscape with a bright sun or moon in the sky. The mountains are rugged and rocky, with some snow or ice patches. The sky is a mix of blue and white, suggesting a clear day with some clouds. The overall scene is majestic and scenic.

Подготовка к ОГЭ на уроках географии

Учитель географии
МБОУ СОШ № 2 им.Н.С.Лопатина
г.Гулькевичи
Волкова Ольга Владиславовна

Сдавали ОГЭ по географии в МБОУ СОШ № 2 им.Н.С.Лопатина в 2023 году 51 человек.

Результат экзамена:

«2» - нет

«3» – 12

«4» – 25

«5» – 14

Выполнение заданий

Задание 2 – 98% (50 человек)

Задания 8,9,10 – 94,1% (48 человек)

Задание 22 – 92,2% (47 человек)

Задание 12 - 92,2% (47 человек) (2 балла – 33 человека, 1 балл – 14 человек).

Задание 28 – 15,7% (8 человек)

Задание 29 – 11,8 % (6 человек)

Минимальный балл – 12 (1 человек)

Максимальный балл – 30 (2 человека)



СДАМ ГИА: РЕШУ ОГЭ

Образовательный портал для подготовки к экзаменам

География

Математика

Информатика

Русский язык

Английский язык

Немецкий язык

Французский язык

Испанский язык

Физика

Химия

Биология

География

Обществознание

Литература

История



Задание 5 – 84,3% (43 человека) Тема «Циклоны и антициклоны» 8 класс.

Задание 6 – 78,4% (40 человек)

ЗАПОМИНАЕМ!

(запишите вертикально несколько первых букв алфавита)

А ← антициклон
Б ↘
В ↙ **высокое давление**

Г
Д

·
·

Ц - находится внизу алфавита (давление низкое)



1. Изучите условные знаки карты.
2. Найдите на карте и покажите антициклоны (циклоны).
3. Задание №5 из ОГЭ по географии.
4. Найдите на карте и покажите холодные (теплые) фронты. В каком направлении движутся?
5. Задание № 6 из ОГЭ по географии.

Карточка 1.

1. Студенты географического факультета изучают арктические пустынные ландшафты. Какой заповедник они должны посетить? (Задание 4)

а) Ростовский б) Васюганский в) Ненецкий г) Ботчинский

2. В каком субъекте РФ находится заповедник?

3. В каком климатическом поясе находится заповедник?

4. Какие воздушные массы господствуют на этой территории в течение года?

5. Какие почвы характерны для изучаемой территории?

6. Какие животные и растения характерны для этой природной зоны (по 3 примера).

Карты атласа 8 класс:

1. Особо охраняемые природные территории.

2. Административная карта России.

3. Климат.

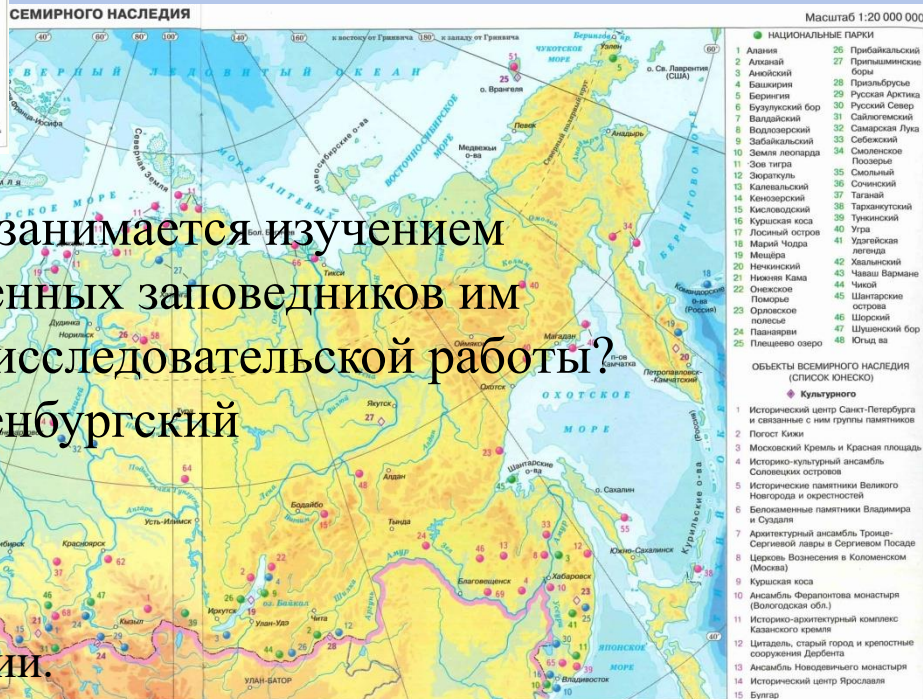
4. Почвы.

5. Животный мир.



3. Группа студентов из Екатеринбурга занимается изучением тундрово-глеевых почв. Какой из перечисленных заповедников им необходимо посетить для проведения исследовательской работы?

- 1) Байкальский 2) Ненецкий 3) Волжско-Камский.



3. Группа студентов из Екатеринбурга занимается изучением каштановых почв. Какой из перечисленных заповедников им необходимо посетить для проведения исследовательской работы?

- 1) Ботчинский 2) Кивач 3) Оренбургский

Карты атласа 8 класс:

1. Особо охраняемые природные территории.
2. Почвы.

<p>ЗАПОВЕДНИКИ</p> <ol style="list-style-type: none"> Азас Байкало-Ленский Баскет Быстак Башкирский Беломорский Богдано-Баскуцкий Болонский Большая Кочага Большая Медведица Большой Арктический Ботчинский Буринский Вернее-Тазовский Витинский Вишерский Воронинский Галичья гора Гиданский Давыдовский Делюгинский Зейский Ильинский Кабардино-Балкарский высокогорный Кавказский Казантинский Келусские заповедники Кичи-Калашинский Хардагский Коларинский лес Комсомольский Корякский Костомухинский Крымский Кузнецкий Алатау Куринский Лазовский Маладандский Малая Сосна Мордовский Муромский Ненецкий Нижне-Сверский Норский Нургуш Олекминский Орловский Оренбургский Остров Врангеля Плесинский Пенский Полстовский Порожайский Шайтан-Таш Шульган-Таш Эрзя Юганский Южно-Уральский Ростовский Сестрорецкий Столбы Тигирский Тулунский Уссурийский Усть-Ленинский Утриш Хвалынский Хвалынский Холмогорский Шайтан-Таш Эрзя Юганский Южно-Уральский Ростовский Катунский Кудровый Падь Коржанин Командорский Кронидий Лаптевский Байкальский Пенчоро-Ильинский Пржевальский Савоно-Шушенский Сихотлинский Таймырский Тебердинский Убунурский колленица Ханкайский Центрально-Ленский Центральносибирский Центрально-Черноземный Черные Земли 	<p>БИОСФЕРНЫЕ ЗАПОВЕДНИКИ</p> <ol style="list-style-type: none"> Алтаевский Астраханский Байкальский Башкирский Урал Брянский лес Волго-Камский Воронежский Дальневосточный морской Дарвинский Давурия Жигулевский Кавказский Катунский Кудровый Падь Коржанин Командорский Лаптевский Оскольский Пенчоро-Ильинский Пржевальский Савоно-Шушенский Сихотлинский Таймырский Тебердинский Убунурский колленица Ханкайский Центрально-Ленский Центральносибирский Центрально-Черноземный Черные Земли 	<p>ТЕРРИТОРИИ С ОСОБЫМ ИНДИВИДУАЛЬНЫМ ОГРАНИЧЕННЫМ СТАТУСОМ ФЕДЕРАЛЬНОГО ЗНАЧЕНИЯ</p> <ul style="list-style-type: none"> Эколого-экономическая и рекреационный район г. Сочи Природно-историческая территория о. Валаам Эколого-курортный район Кавказские Минеральные Воды 	<p>НАЦИОНАЛЬНЫЕ ПАРКИ</p> <ol style="list-style-type: none"> Алтай Алтайский бор Байкальский бор Башкирский бор Булунский бор Валдайский бор Волжско-Камский бор Зюраткуль Кавказский бор Келусский бор Кисловский бор Курашская коса Лосиный остров Марий Чодра Мещера Невская Кама Онежский Поморье Нижняя Кама Онежский Поморье Орловский бор Пашанский бор Плещеево озеро Пробайкальский бор Примаминские боры Приморско-Бурасский бор Русская Арктика Русский Север Самарская Луна Себецкий бор Смоленское Поозерье Смоленский Солонский Тайгач Тарноумский Тунинский Удзюльская ледяная Холмогорский Чаша Варманы Числя Шантарские острова Холмогорский Шорский бор Шушенский бор Чукча
---	--	---	--

РЕКИ

Прочитайте текст. Определите название реки. Используя текст, определите падение и уклон реки. Результаты округлите до десятых.

Это самая крупная сибирская река. По мировым меркам — это десятая по длине река в мире. Площадь бассейна водосбора — 2 490 тыс.кв.км. Берет река начало на Байкальском хребте на высоте 1470 метров. Протекает по территории Якутии в Иркутской области. Особенности рельефа подразумевает разделение водной артерии на три части разной протяженности. После встречи с притоком Витимом, до впадения в эту реку Алдана, характер течения несколько успокаивается, река становится шире и глубже. Осенью и зимой — межень. Ледоход нередко сопровождается ледовыми заторами и отличается большой мощностью.

Название _____

Падение _____ м

Уклон реки _____ см/км

Тема «Население»

Карточка 4.

1. Расположите перечисленные города в порядке увеличения в них численности населения. (Задание 25)

1) Орел 2) Краснодар 3) Магадан

2. В каких двух из перечисленных регионов России средняя плотность населения наибольшая? Запишите цифры, под которыми указаны эти регионы. (Задание 24)

1) Тюменская область 2) Красноярский край

3) Ростовская область 4) Камчатский край

5) Республика Башкортостан

3. Большая часть населения какой республики исповедует ислам?

1) Коми 2) Карелия 3) Алтай 4) Дагестан

4. Какие два народа из перечисленных относятся к индоевропейской языковой семье?

1) селькупы 2) осетины 3) коряки 4) кеты 5) русские

Карты атласа 8 класс:

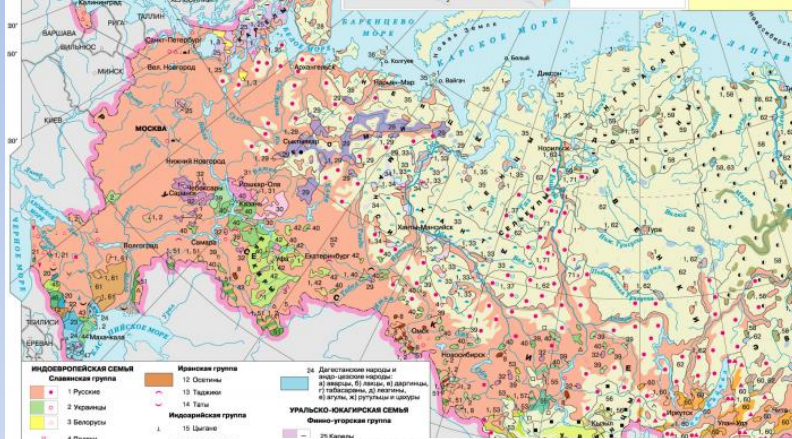
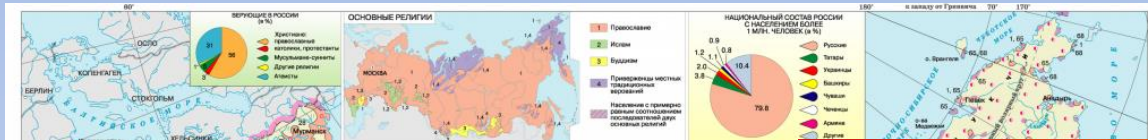
1. Размещение населения.

2. Народы.

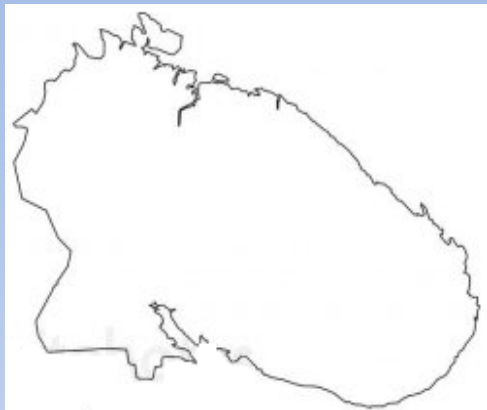


Традиционным занятием какого из перечисленных народов России является земледелие?

- 1) мордва 2) карелы 3) чукчи 4) ханты



ЕВРОПЕЙСКИЙ СЕВЕР



1. Определите по контуру субъект РФ. Напишите название его административного центра.

Дайте характеристику субъекта по плану: с каким(и) субъектом(ами) РФ и/или

государством(ами) граничит; какими морями омывается; крупные реки субъекта (3 шт); крупные озера; географические координаты административного центра.

2. Определите объект по географическим координатам 65° с.ш. 36° в.д.

3. Какой водоем омывает объект.

4. Расположите города в порядке: от самого северного к самому южному: Архангельск, Вологда, Мурманск, Петрозаводск, Воркута, Котлас.

Карты атласов 8-9 классов Европейский Север и Северо-Запад.

Северо-Западный район

1. Определите страну, с которой Северо-Западный район имеет сухопутную границу.

а) Украина б) Латвия в) Норвегия г) Молдавия.

2. Какое море омывает территорию Северо-Западного района?

А) Белое б) Балтийское в) Северное г) Баренцево.

3. Определить по географическим координатам населенный пункт 57° с.ш. 28° в.д.

В каком направлении от этого пункта находится город Остров.



Карточка 1.

Определите субъект России по описанию.

1. Эта республика находится в азиатской части России. На территории республики находится крупнейшее озеро мира.
(Задание 30)

2. В какой климатической области находится субъект РФ?

3. С каким иностранным государством граничит субъект РФ?

4. Какая крупная форма рельефа находится на территории субъекта РФ?

5. Расположите перечисленные города в порядке увеличения продолжительности дня 20 января, начиная с города с наименьшей продолжительностью дня. Запишите последовательность цифр.

1) Кяхта 2) Улан-Удэ 3) Багдарин

Европейский Север

1. Одним из приграничных субъектов РФ является Республика Карелия, которая имеет выход к Государственной границе РФ с ...
2. Напишите название субъекта РФ, который имеет сухопутную границу с Норвегией и Финляндией.
3. Укажите название архипелага, который лежит между Баренцевым и Карским морями.
4. Расположите регионы России по степени уменьшения естественного плодородия почв на их территории: Ростовская область; Тверская область; Республика Коми
5. Расположите регионы России в порядке увеличения средних температур воздуха в январе: Новгородская область; Республика Коми; Ставропольский край
6. Расположите регионы России в порядке увеличения средних температур воздуха в июле: Мурманская область; Астраханская область; Тверская область
7. К традиционным занятиям какого из перечисленных народов России относится оленеводство: ненцы; чувашаи; башкиры; кабардинцы.
8. Группа школьников из Мурманска хочет своими глазами увидеть необычную для них природу дельты наиболее протяжённой европейской реки. Какой из перечисленных заповедников для этого им необходимо посетить: Астраханский; Байкало-Ленский; Ильменский; Жигулевский.
9. Какой из перечисленных субъектов РФ не входит в состав СЭР: Архангельская обл., Вологодская обл., Новгородская обл., Республика Карелия.
10. Какой из перечисленных районов не является центром металлургии Северного района: Вологда, Череповец, Мончегорск, Кандалакша.
11. Город Петрозаводск располагается на берегу озера...
12. Хибины находятся на территории субъекта РФ - ...
13. На территории какой области располагается резиденция Деда Мороза...
14. Какая из рек находится восточнее: Печора или Северная Двина.

Поволжский экономический район. Вариант № 2.

Главный фактор формирования Поволжского экономического района

- а) Каспийское море б) река Волга в) Приволжская возвышенность г) горы Жигули

2. На территории региона находится устье реки

- а) Ока б) Дон в) Кама г) Урал

3. В Волгоградской области преобладают почвы

- а) каштановые б) серые лесные в) дерново-подзолистые г) бурые полупустынные

4. Какое озеро находится в пределах региона

- а) Кардывач б) Баскунчак в) Аралсор г) Сегозеро

5) В каком субъекте РФ находится Ромашкинское месторождение нефти?

- а) Самарская обл. б) Саратовская обл. в) Астраханская обл. г) респ. Татарстан

6. Какая электростанция региона является атомной?

- а) Волжская б) Нижнекамская в) Заинская г) Балаковская

7. Установите соответствие:

Производство

Центр размещения

1) меховая

А) Самара

2) автомобильная

Б) Энгельс

3) черная металлургия

В) Казань

4) целлюлозно-бумажное

Г) Ульяновск

8. Международная миграция в Астраханской области.

В каком году было зафиксировано наименьшее число эмигрантов?

	2008	2009	2010	2011	2012	2013	2014
Прибыло	2221	2070	1393	8239	5818	7523	12308
Выбыло	688	598	629	1239	6861	4742	7630

Задание 19

1. Расположите населенные пункты в той последовательности, в которой наступает Новый год по местному времени: Енисейск, Мирный, Мохсоголлах.

2. Расположите населенные пункты в той последовательности, в которой наступает Новый год по местному времени

Т

3.

вр

за

в

на

п



кому

кого

ответам.