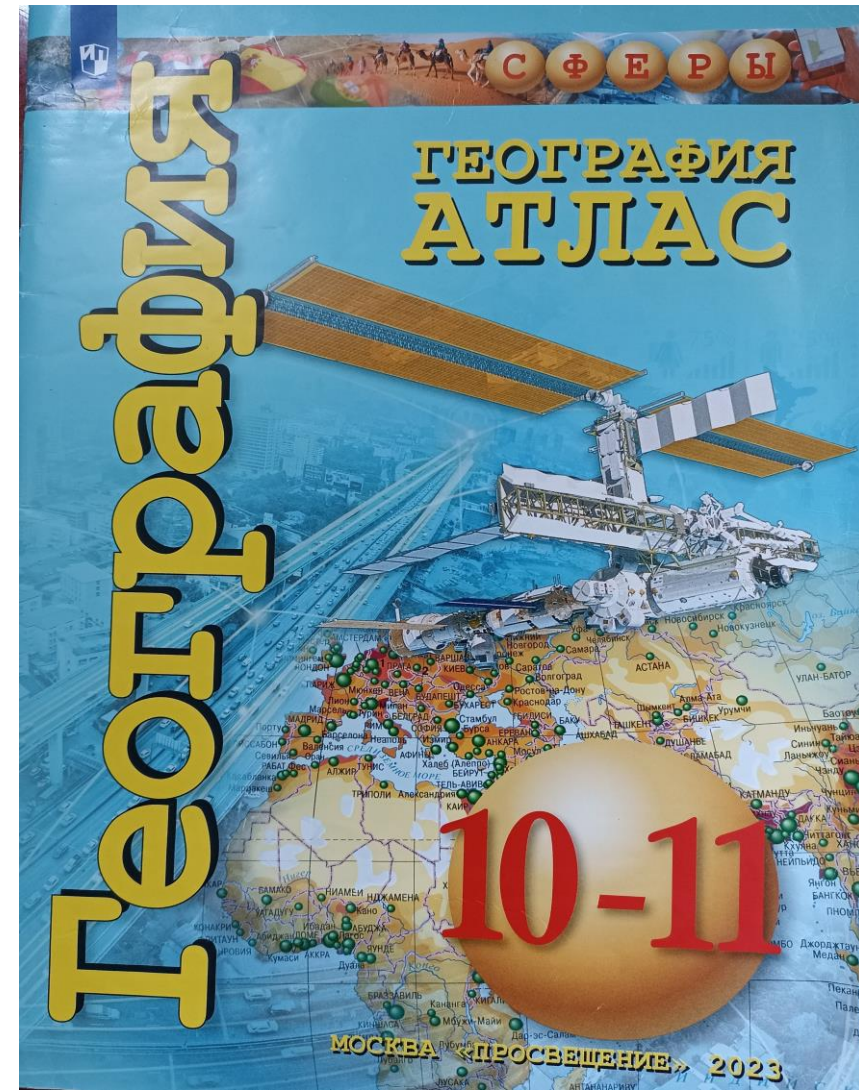


# **Использование учебно-методического комплекса по географии для 10-11 классов при подготовке к ЕГЭ**

Носенко Н.Г.,  
учитель географии МОБУ СОШ №11  
им. Ю.А. Гагарина,  
тьютор  
Новокубанский район



# Учебно-методический комплекс по географии 10-11 классы. Автор Д.Л.Лопатников, Москва, Просвещение СФЕРЫ





СУРИНАМ 176  
КАНАДА 1,01  
ГАЙАНА 21,11

Страны — лидеры по обеспеченности природными ресурсами

### ВЕДУЩИЕ СТРАНЫ МИРА ПО ВЕЛИЧИНЕ РЕСУРСОВ ПРЕСНОЙ ВОДЫ (км<sup>3</sup>)



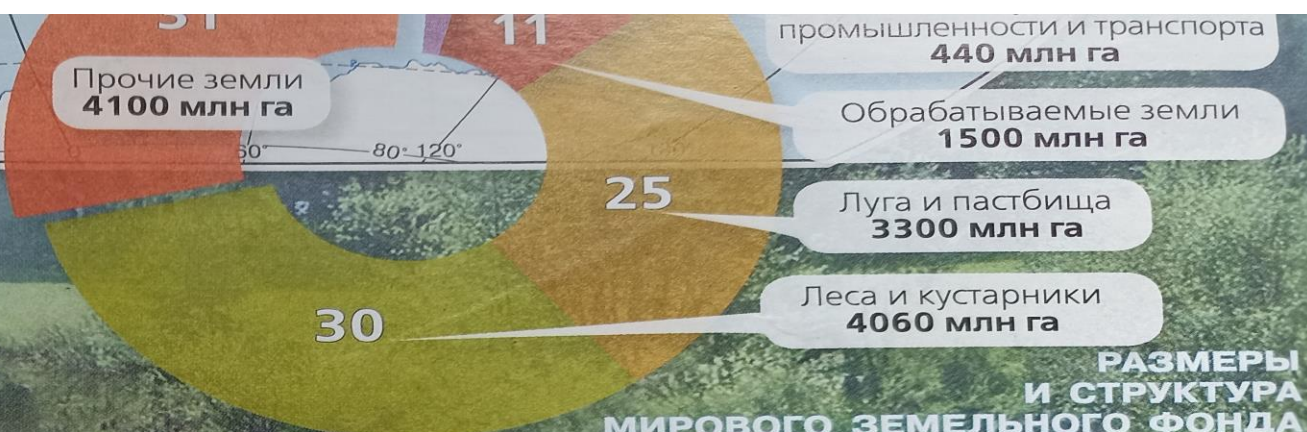
### ВЕДУЩИЕ СТРАНЫ МИРА ПО РАЗМЕРАМ ЛЕСОПОКРЫТОЙ ПЛОЩАДИ (млн га)



### ВЕДУЩИЕ СТРАНЫ МИРА ПО ПЛОЩАДИ ПАШНИ (млн га)



Прочие земли  
4100 млн га



### РАЗМЕРЫ И СТРУКТУРА МИРОВОГО ЗЕМЕЛЬНОГО ФОНДА (%)



Задание 8. . Воспроизводство населения, его типы  
особенности в странах с различным  
уровнем социально-экономического развития; Возрастной и  
половой состав населения мира; Качество жизни населения

8

Расположите перечисленные страны в порядке возрастания в них показателя  
ожидаемой продолжительности жизни населения, начиная со страны  
с наименьшим значением этого показателя.

- 1) Мексика
- 2) Сомали
- 3) Великобритания

Запишите в таблицу получившуюся последовательность цифр.

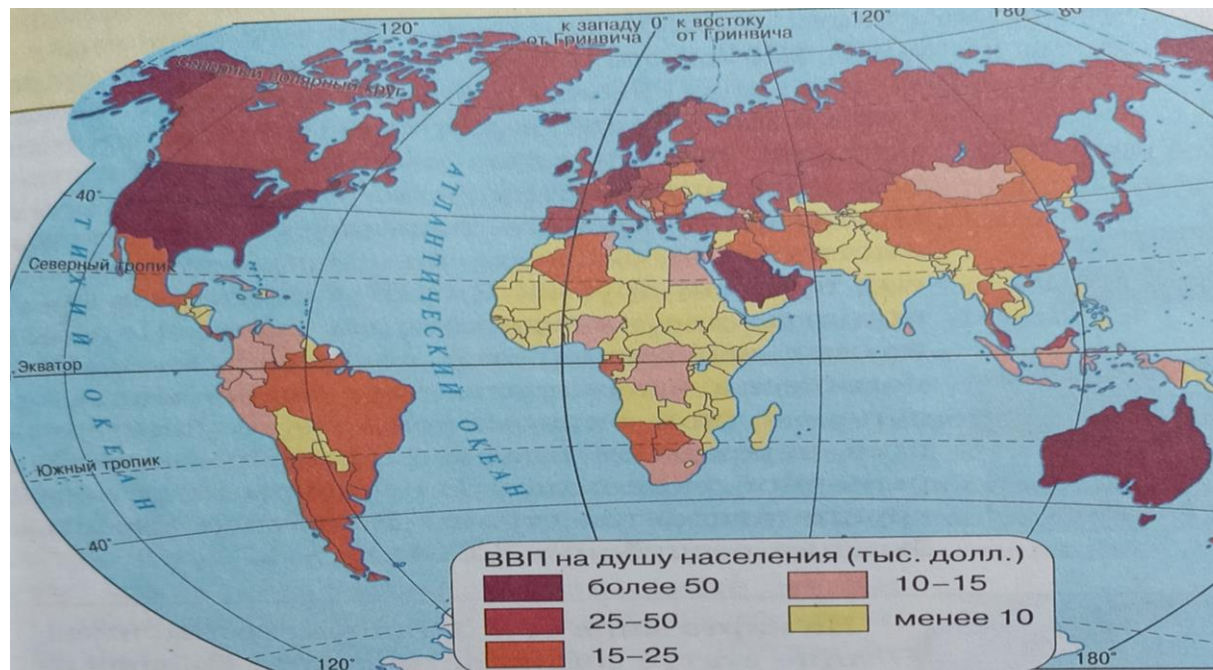
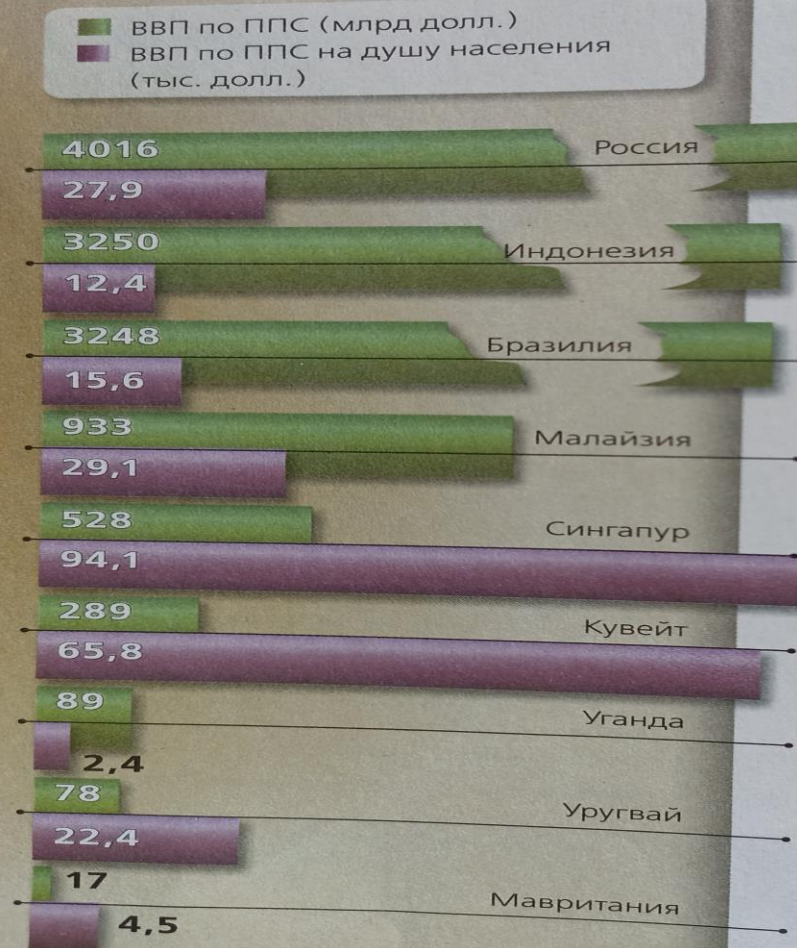
Ответ: 

|  |  |  |
|--|--|--|
|  |  |  |
|--|--|--|



# Ресурсы учебника к заданию 8.

ВВП по ППС некоторых стран мира, 2017 г.



Ещё один из используемых показателей, на базе которых группируют страны, — индекс человеческого развития (ИЧР). Он учитывает уровень душевого дохода населения, продолжительность жизни, качество образования и отражает общее качество жизни в стране, используется ООН для межстрановых сравнений. Среднемировой показатель ИЧР — 0,711.

Индекс человеческого развития некоторых стран, ед. ИЧР, 2017 г.





## Задание 9 Мировое хозяйство

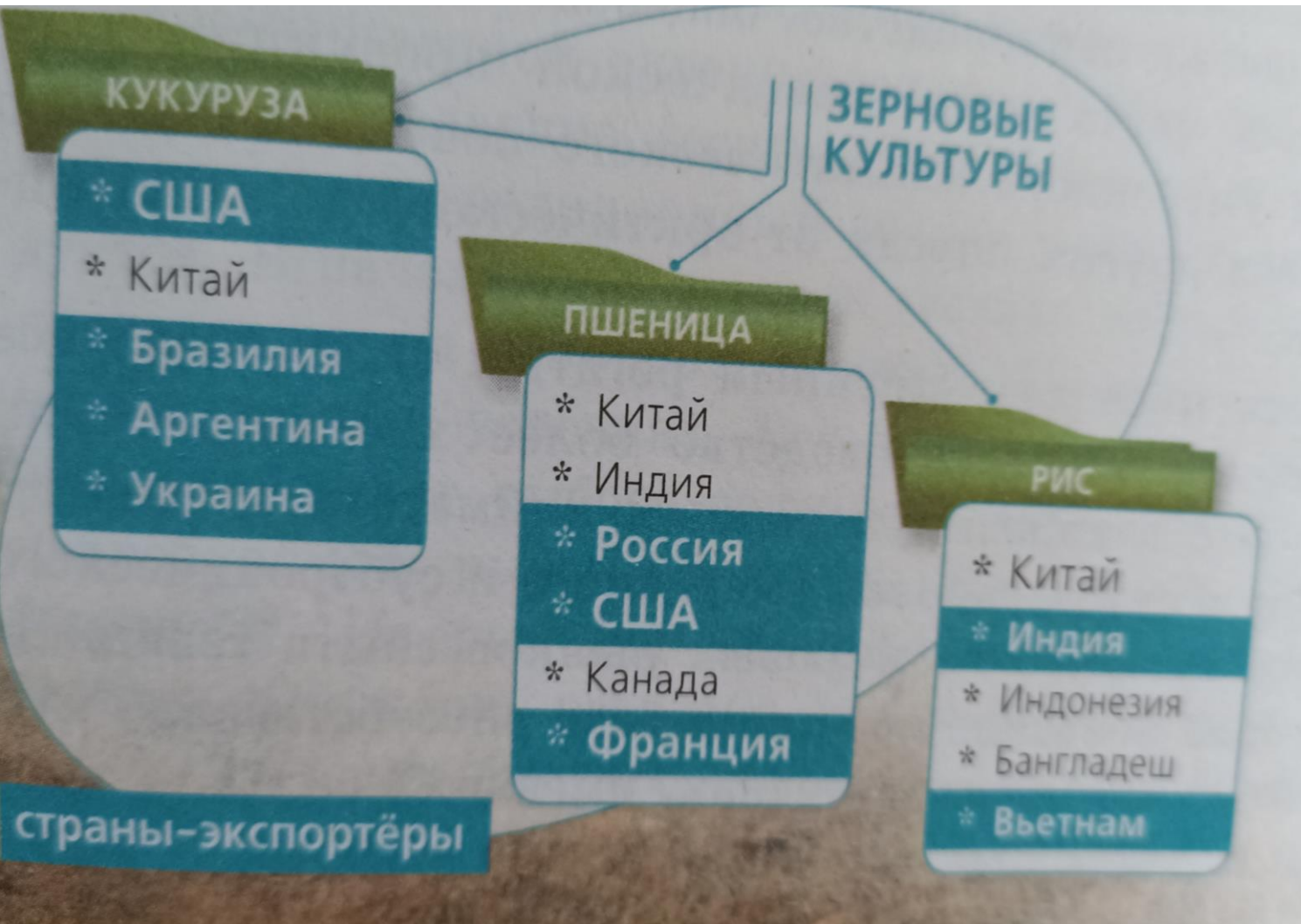
- **Россия, страны члены – ОПЕК и некоторые другие крупные производители нефти координируют политику в области добычи и экспорта нефти. Сотрудничество России с какими тремя из перечисленных стран способствует поддержанию выгодного для нашей страны уровня цен**

**на нефть на мировом рынке? Запишите в таблицу цифры, под которыми указаны эти страны.**

- 1) Алжир
- 2) Мексика
- 3) Танзания
- 4) Аргентина
- 5) Пакистан
- 6) Саудовская Аравия



# Задание 9. География главных отраслей мирового хозяйства



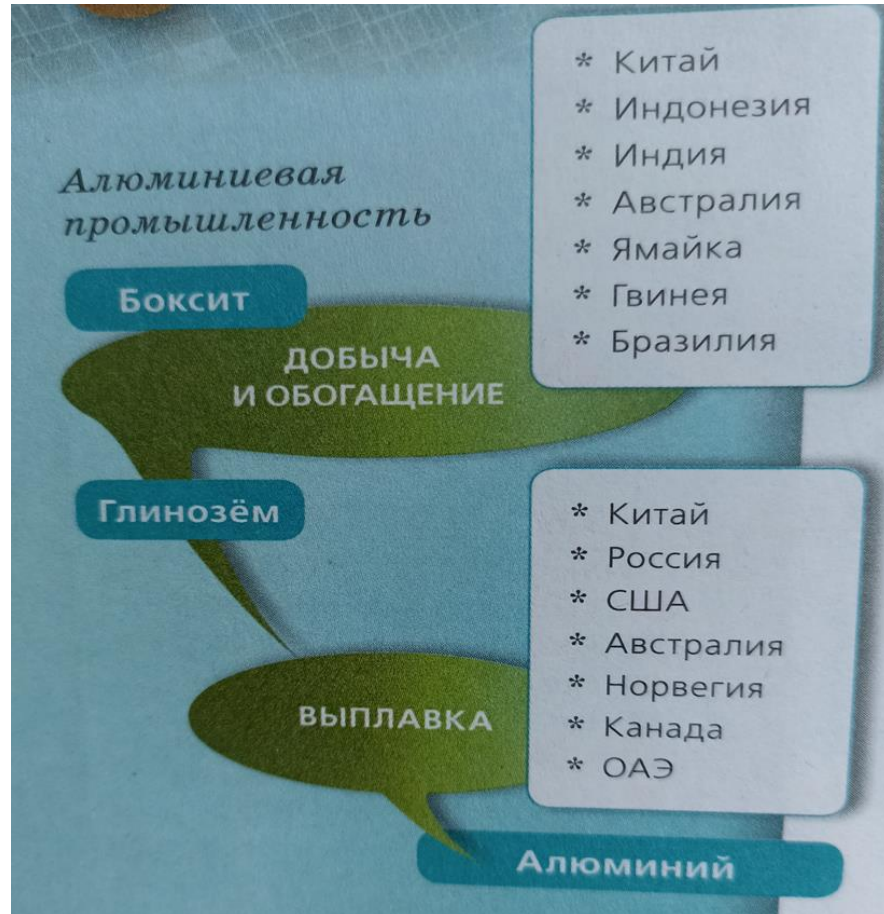


## Задание №9 Мировое хозяйство

- Россия занимает одно из ведущих мест в мире по производству и экспорту металлического алюминия. Какие три из перечисленных стран, как и Россия, относятся к крупным мировым экспортёрам металлического алюминия? Запишите цифры, под которыми указаны эти страны.  
1) Канада
- 2) Норвегия 3) Чехия  
4) Китай 5) Монголия 6) Парагвай



# Ресурсы учебника к решению задания 9









## СТРАНЫ-ЛИДЕРЫ В ЖИВОТНОВОДСТВЕ

### ПТИЦЕВОДСТВО

- \* Китай
- \* Индонезия
- \* США
- \* Бразилия

### СКОТОВОДСТВО

- \* Бразилия
- \* Индия
- \* США
- \* Китай
- \* Эфиопия

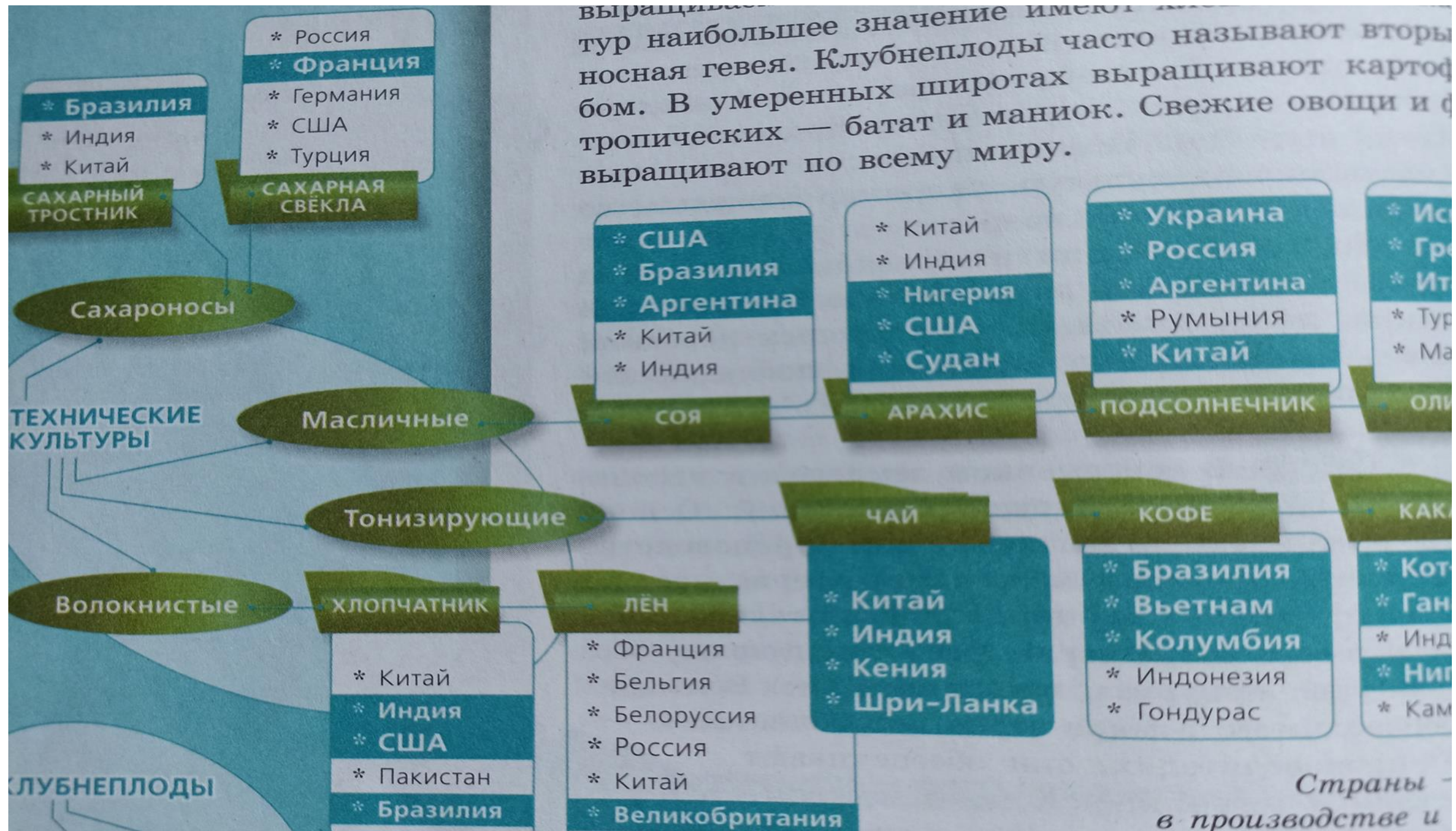
### СВИНОВОДСТВО

- \* Китай
- \* США
- \* Бразилия
- \* Испания
- \* Германия

### ОВЦЕВОДСТВО

- \* Китай
- \* Австралия
- \* Индия
- \* Нигерия
- \* Судан







## **№12. В каких из высказываний содержится информация о международной экономической интеграции? Запишите цифры, под которыми они указаны**

- 1. С помощью стандартизированной системы законов, действующих во всех странах Европейского Союза, создан общий рынок, гарантирующий свободное передвижение природных ресурсов, капитала, товаров и услуг, включая отмену паспортного контроля в пределах Шенгенской зоны.
  - 2. В ноябре 2016 г. страны – члены Организации стран – экспортеров нефти достигли соглашения о сокращении добычи нефти на 1,2 млн баррелей в сутки – до 32,5 млн баррелей и определили квоты для стран.
  - 3. По результатам первого полугодия 2017 г., рост мировой экономики привёл к увеличению потребления алюминия на 5,7%, при этом рынок, за исключением Китая, оставался в дефиците.
  - 4. Возникновение отраслевых экономических группировок, объединяющих страны с одинаковой международной специализацией, объясняется стремлением стран регулировать мировые цены на продукцию определённых отраслей.
5. Группа НЛМК, транснациональная сталелитейная компания, объявила о начале работы дочерней торговой компании в Турции.





# • Международные интеграционные объединения



# Ресурсы учебника к решению задания 12






## Задание 15. Ресурсообеспеченность

- Объединённые Арабские Эмираты входят в число десяти крупнейших по объёмам добычи нефти стран мира. Определите показатель ресурсообеспеченности Объединённых Арабских Эмиратов нефтью по состоянию на 2022 г., если известно, что величина разведанных запасов нефти составляла 15 228 млн т, а объём добычи 188 млн т. Ответ запишите в виде числа.



# ДОКАЗАННЫЕ ЗАПАСЫ НЕФТИ (млрд т, 2021 г.)

МИР  
244







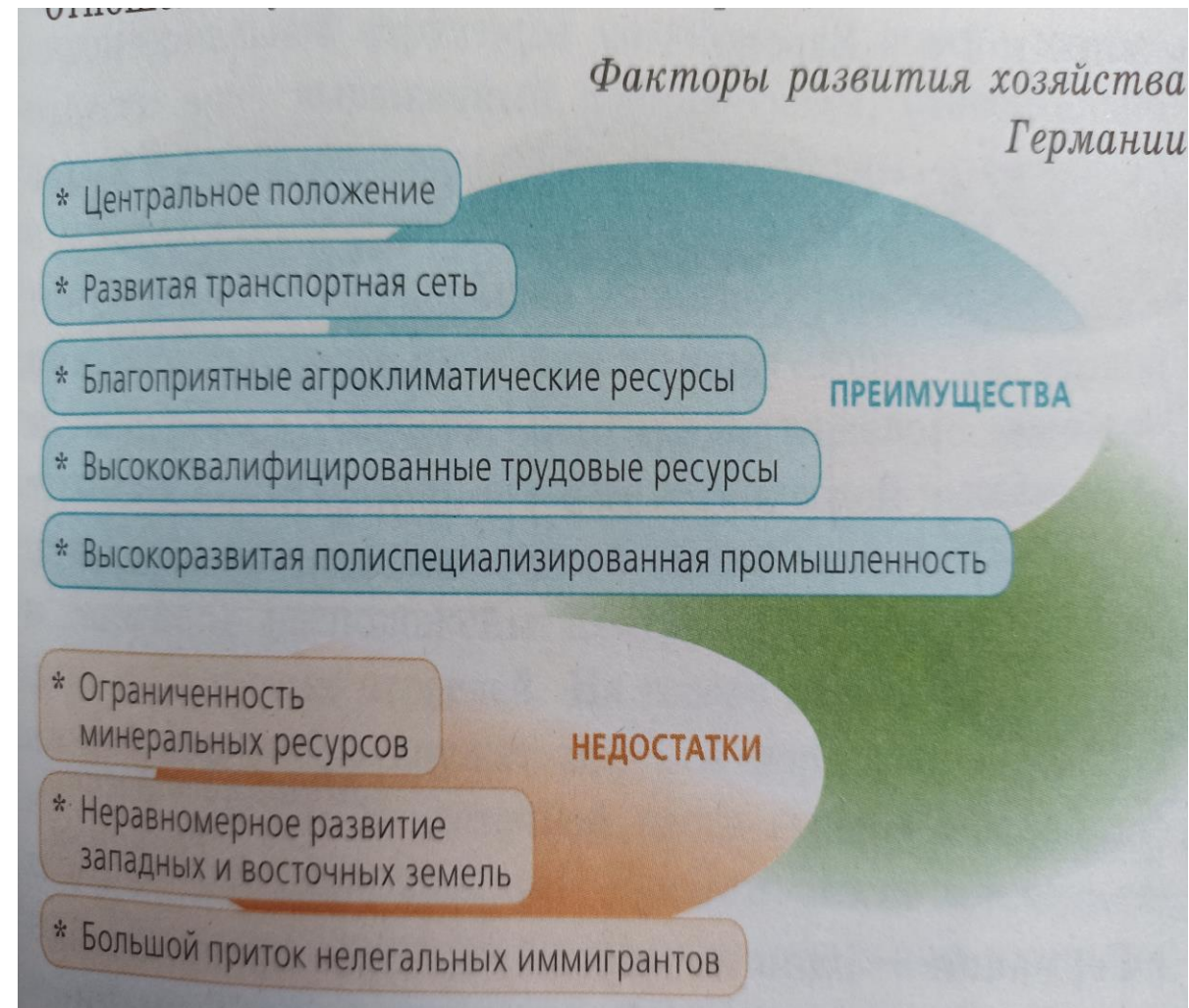
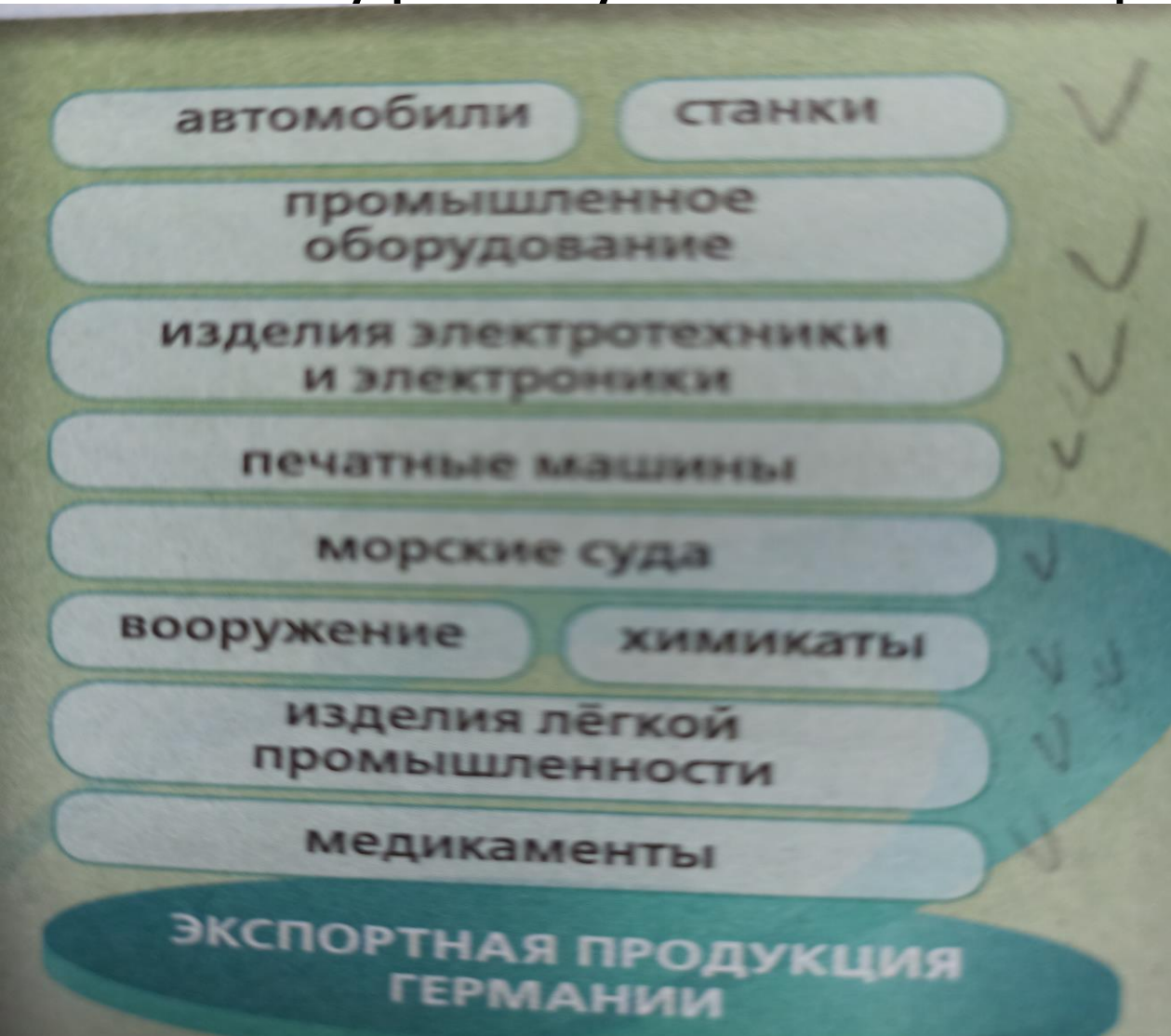


## Задание 17. Регионы и страны

- Определите страну по её краткому описанию. Эта европейская страна по форме правления является монархией. По площади территории она самая крупная на полуострове, на котором находится. В рельефе преобладают средневысотные горы. Разведаны крупные месторождения железных и медных руд. Лесопокрытые площади занимают больше половины территории страны. Ведущие отрасли промышленности: машиностроение, металлургия, лесная и химическая

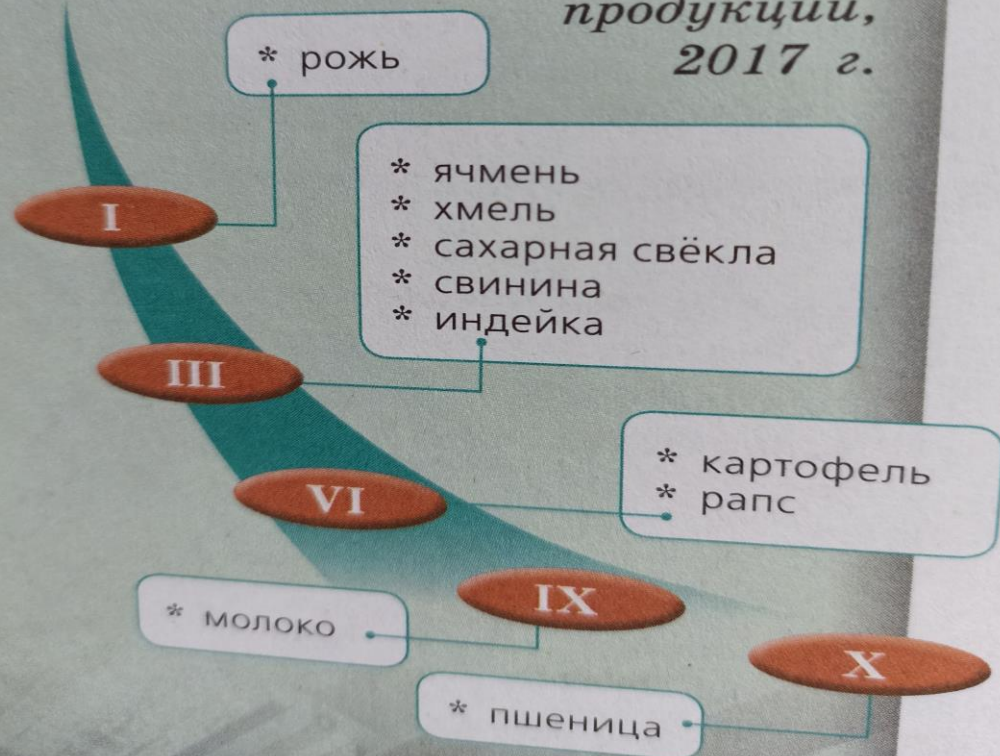


# Ресурсы учебника к решению задания17





*Место Германии в мире  
по производству  
сельскохозяйственной  
продукции,  
2017 г.*



\* Относительно  
большая территория

\* Выход  
к Атлантическому океану  
и Средиземному морю

\* Разнообразные  
природные условия  
и природные ресурсы

\* Значительное количество  
высококвалифицированных  
трудовых ресурсов

\* Высокоразвитое  
сельское хозяйство

\* Высокоразвитая сфера услуг

\* Многочисленные объекты  
культурного наследия

**ПРЕИМУЩЕСТВА**

**НЕДОСТАТКИ**

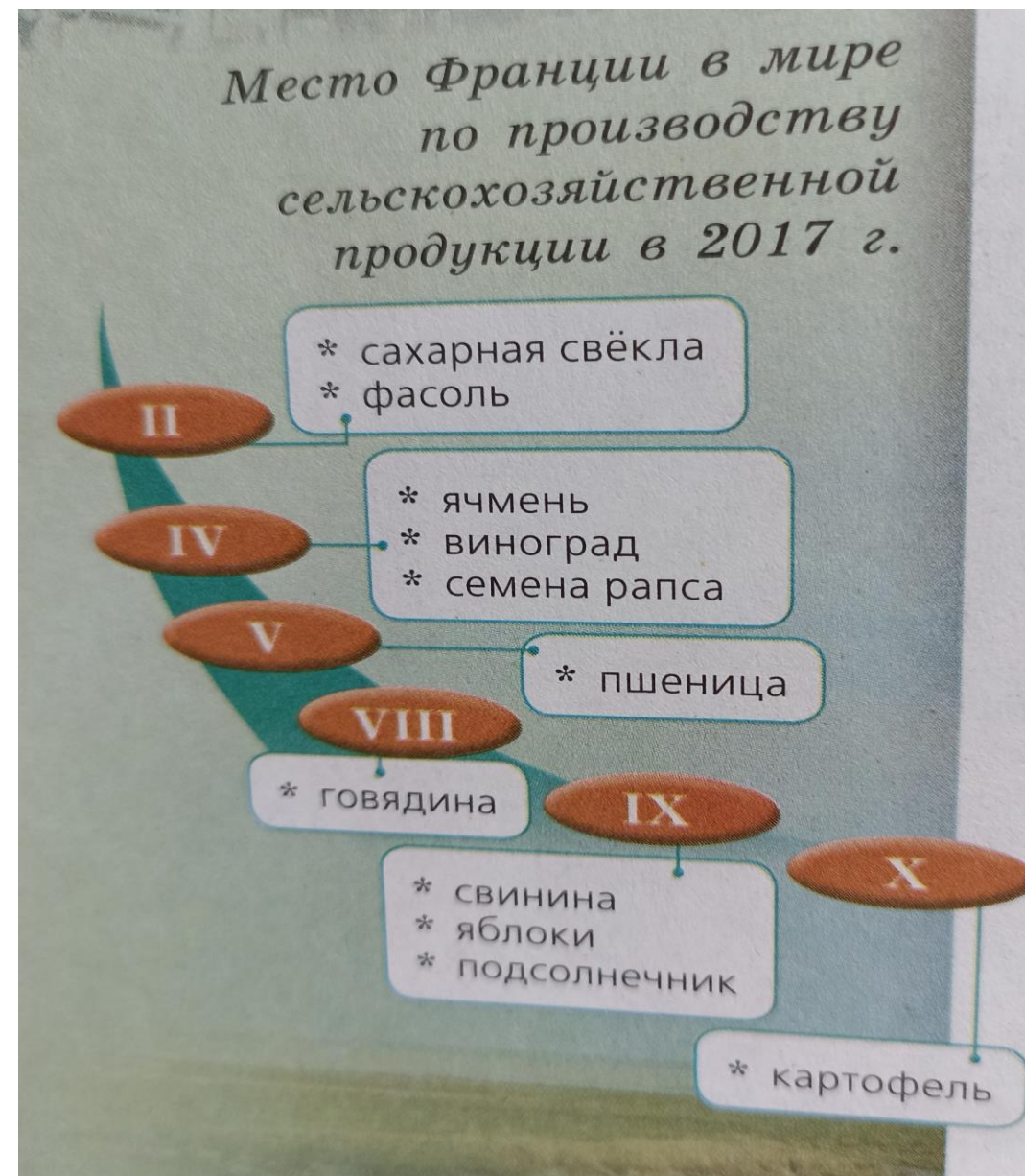
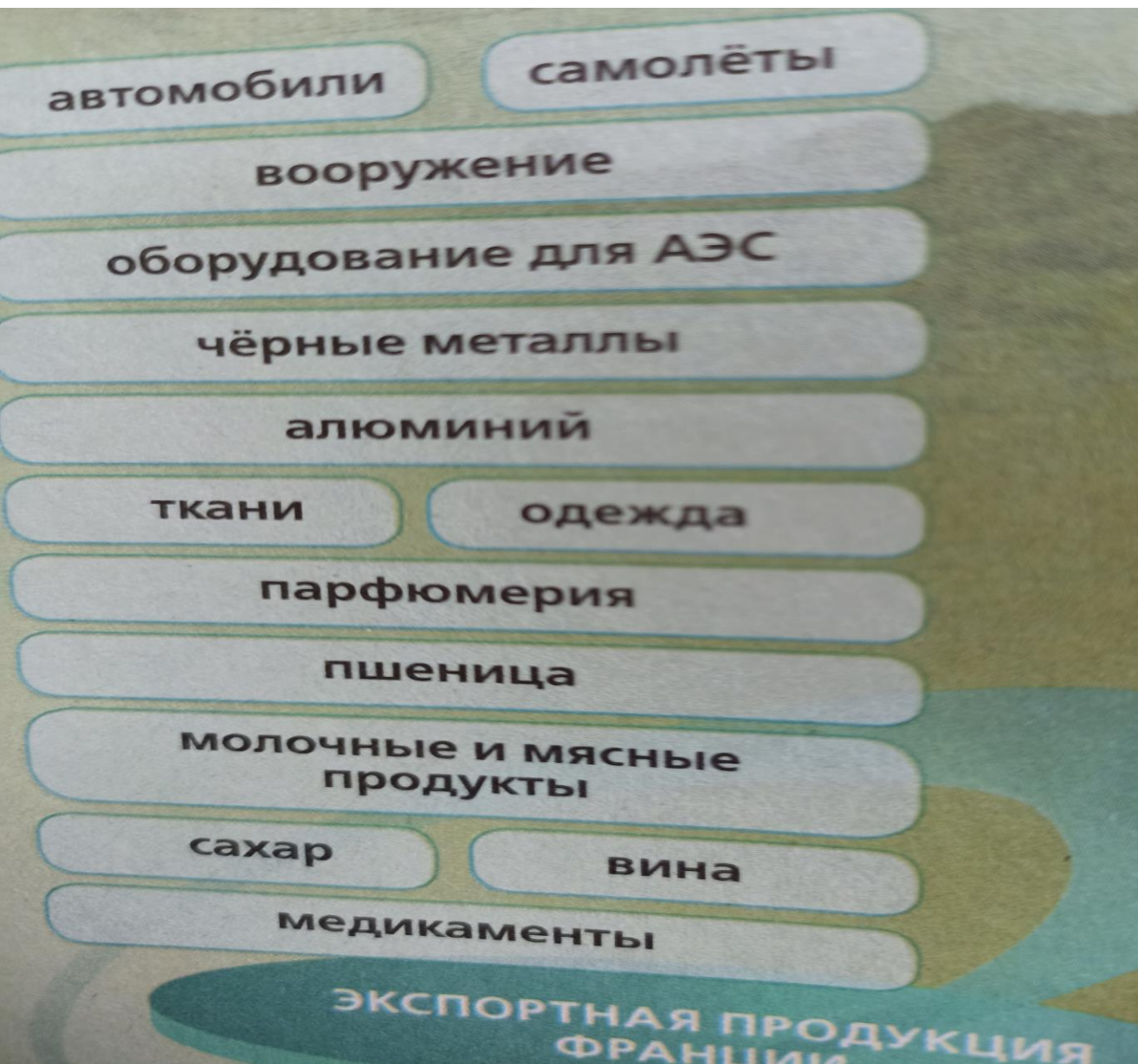
\* Ограниченность  
топливных ресурсов

\* Большой приток иммигрантов

\* Неравномерное развитие  
территории страны —  
экономический лидер Париж  
и депрессивные западные районы

*Факторы  
развития хозяйства Франции*







нефтехимия

фармацевтические  
препараты

сельскохозяйственная  
продукция

текстильные изделия

ювелирные изделия

ЭКСПОРТНАЯ ПРОДУКЦИЯ  
ИНДИИ


Доля Китая в мировом  
экспорте некоторых видов  
продукции, 2015–2017 гг.

Доля в мировом экспорте, %  
I Место Китая в мире





# Великобритания



- \* Выход к Атлантическому океану

- \* «Блестящая изоляция»  
от континентальной Европы

- \* Крупнейшая метрополия в прошлом

- \* Наличие топливных и рудных  
минеральных ресурсов

- \* Высокий уровень освоенности территории

- \* Большое количество  
высококвалифицированных кадров

- \* Высокоразвитый финансово-биржевой сектор

## ПРЕИМУЩЕСТВА

## НЕДОСТАТКИ

- \* Истощение многих видов  
природных ресурсов

- \* Неравномерное размещение населения

- \* Низкий уровень экономического  
развития некоторых территорий

- \* Сложная экологическая обстановка  
на большей части страны

машины  
и оборудование

детали самолётов

автомобили

вооружение

нефть

химикаты

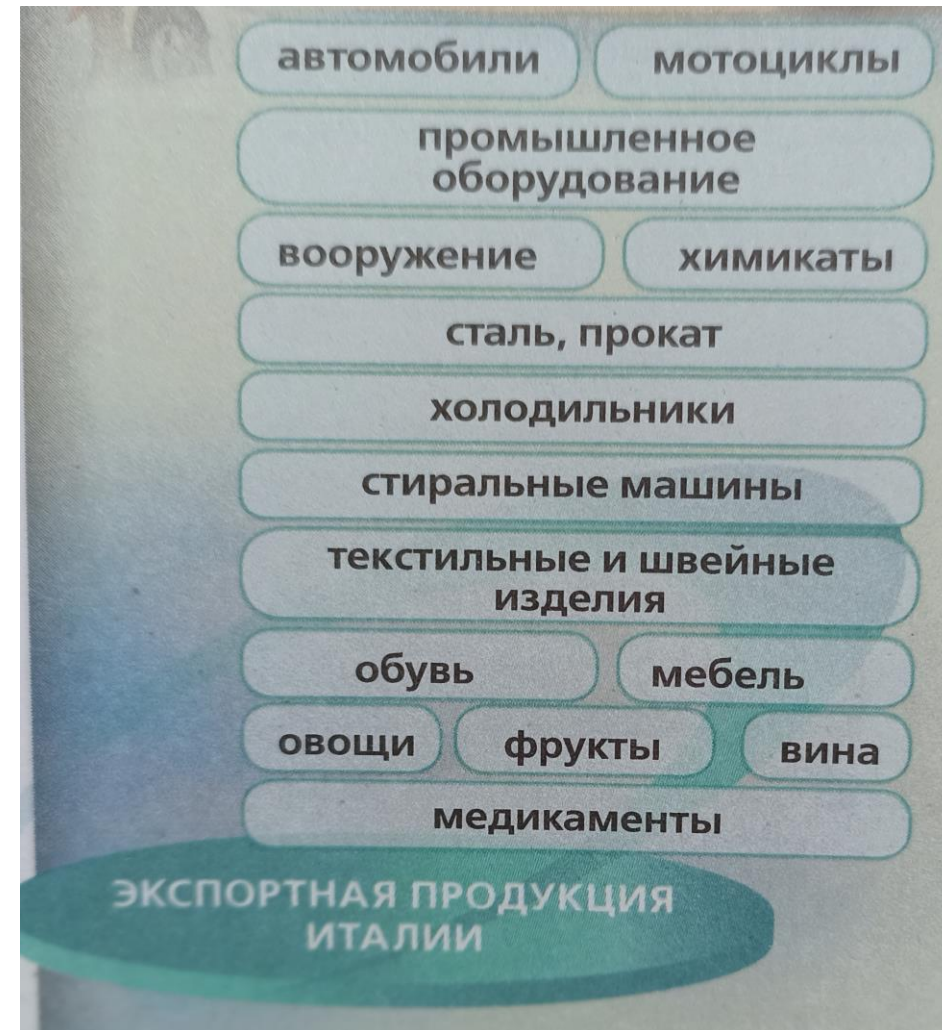
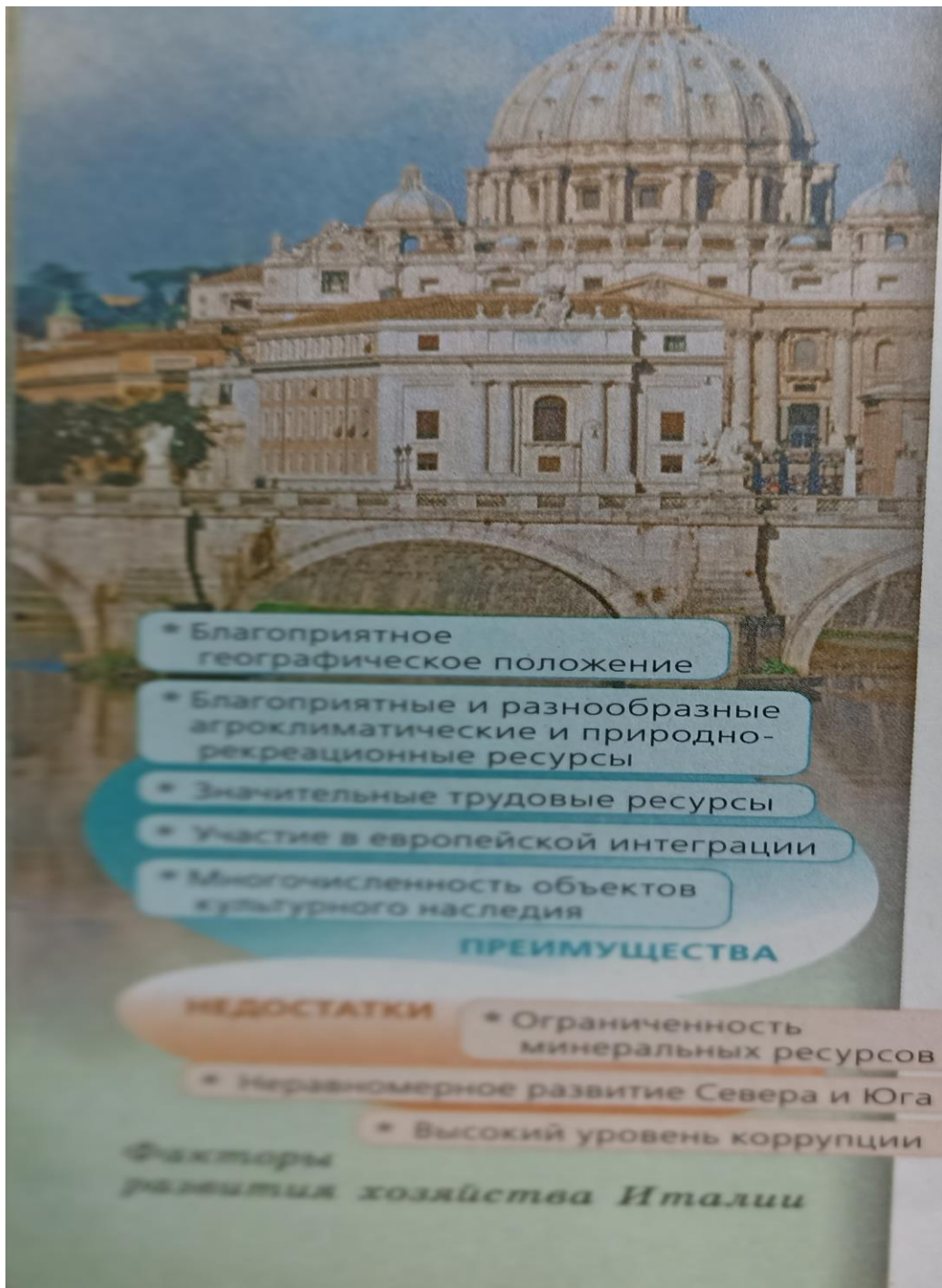
газовые турбины

медикаменты

ЭКСПОРТНАЯ ПРОДУКЦИЯ  
ВЕЛИКОБРИТАНИИ

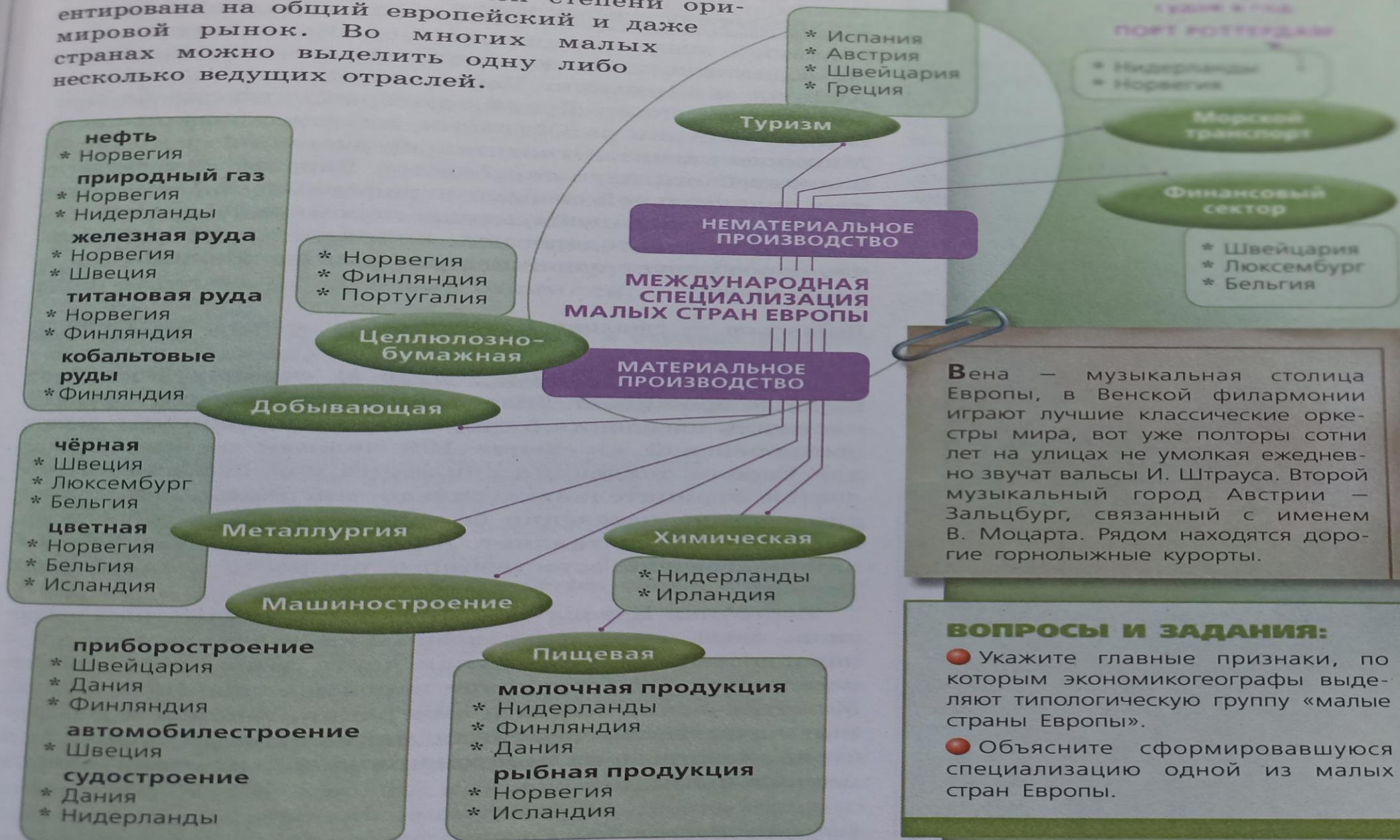


# Италия





**ХОЗЯЙСТВО** В малых странах специализация отраслей хозяйства в большей степени ориентирована на общий европейский и даже мировой рынок. Во многих малых странах можно выделить одну либо несколько ведущих отраслей.



Вена — музыкальная столица Европы, в Венской филармонии играют лучшие классические оркестры мира, вот уже полторы сотни лет на улицах не умолкая ежедневно звучат вальсы И. Штрауса. Второй музыкальный город Австрии — Зальцбург, связанный с именем В. Моцарта. Рядом находятся дорогие горнолыжные курорты.

### ВОПРОСЫ И ЗАДАНИЯ:

- Укажите главные признаки, по которым экономикогеографы выделяют типологическую группу «малые страны Европы».
- Объясните сформировавшуюся специализацию одной из малых стран Европы.